

PÅSKEØB 2

MATEMATIK



Navn: _____

Klasse: _____

POST 1

Man holder påske for at fejre Jesus' genopstandelse fra de døde. I påsken er der både Skærtorsdag, Langfredag og Palmesøndag.

**LØS TALGÅDEN.
HVILKE TAL GEMMER SIG BAG FIGURERNE?**

$$\text{Rabbit} + \text{Egg} + \text{Girl} = 22$$

$$\text{Egg} + \text{Girl} + \text{Girl} = 27$$

$$\text{Rabbit} + \text{Rabbit} + \text{Egg} = 17$$

Three dashed boxes for solving the puzzle:

-  = ?
-  = ?
-  = ?

POST 2

En regnehistorie er en historie, hvor der er gemt en matematikopgave i. Det er din opgave at spore dig frem til regnestykket, ved at sortere i tallene. Du kan starte med at løse spørgsmålene og derefter historien.

LÆS HISTORIEN OG SVAR PÅ SPØRGSMÅLENE.



Påseharen er løbet tør for påskeæg. Han har rigtig travlt, fordi børnene skal snart på påskejagt i haven. Han har lige nu kun 5 påskeæg, men han skal have flere. Han skynder sig hen til påskeæg-butikken og køber 3 pakker med 6 æg i hver. På vej tilbage snubler han og taber 7 æg, som går i stykker. På vejen hjem møder han Lille Kanin. Lille Kanin har 30 æg og giver påseharen 3 af dem. Nu kan påseharen gå glad hen til haven og dele påskeæggen ud til alle børnene.



Hvor mange æg køber påseharen i butikken?

Hvor mange æg har Lille Kanin efter at have givet nogle af sine æg til påseharen?

Hvor mange æg har påseharen, da han når til haven og skal til at dele alle sine påskeæg ud?

POST 3

Noget af det sjoveste i påsken er jagten på påskeæg. Man siger at det er påskeharen, som kommer med påskeæggen og gemmer dem ude i haven eller indenfor. Har du nogensinde været på påskejagt?

SÆT TALLENE I RÆKKEFØLGE.



mindst

størst

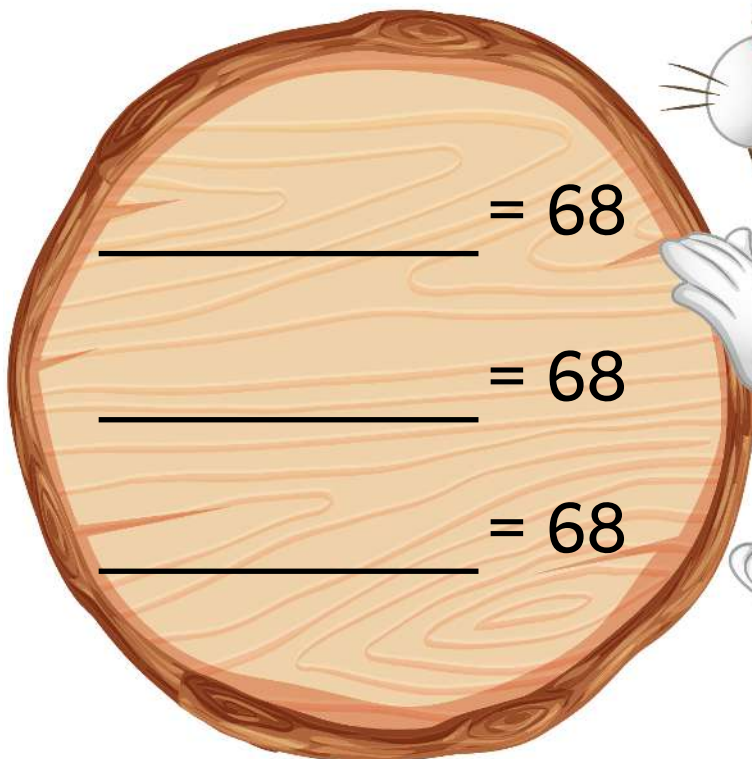
POST 4

De fire regnearter er plus, minus, gange og division. De bliver brugt rigtig meget i matematik, og derfor er det vigtigt at du kan regne med alle fire.

LAV TRE FORSKELLIGE REGNESTYKKER.

Hver regneart skal bruges mindst én gang.


+ - • ÷









POST 5

Et koordinatsystem er måde at aflæse forskellige punkter på. En god huskeregel er, at du først skal hen langs vejen og derefter op af trappen.

SKRIV KOORDINATERNE PÅSKEÆGGENE.



 (,)  (,)  (,)

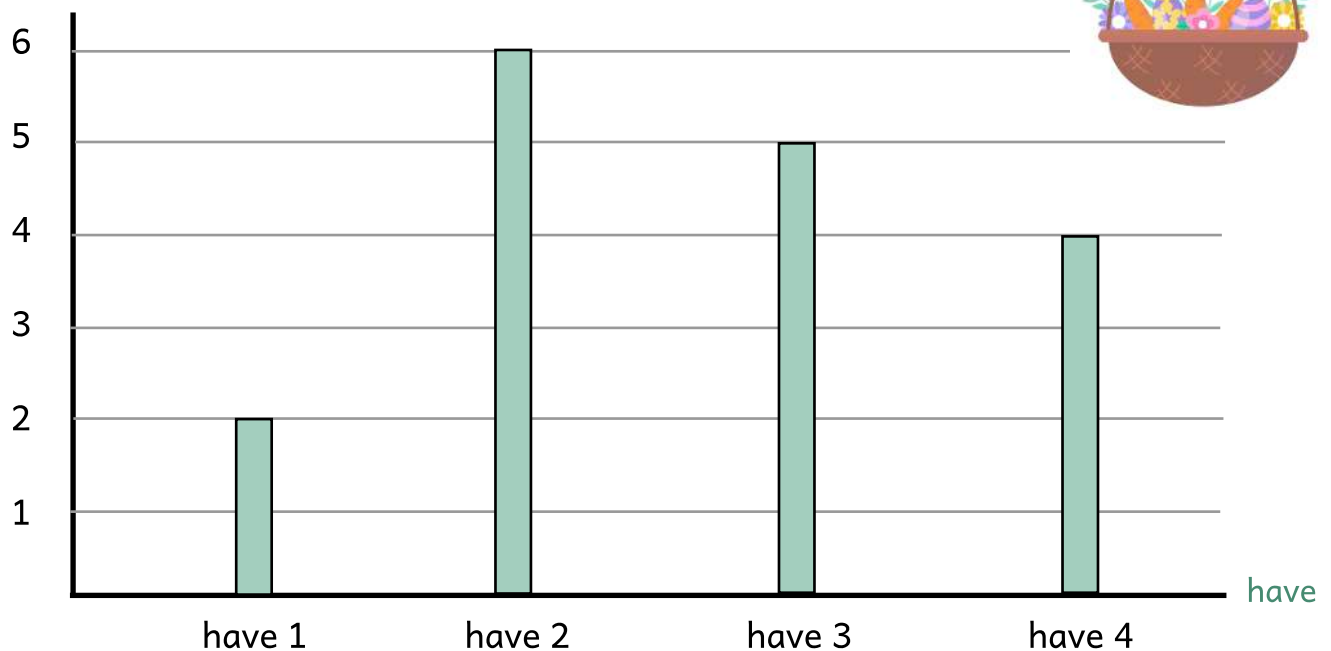
 (,)  (,)  (,)

POST 6

Påseharen har været rundt på tur i haverne for at lægge påskeæg til alle børnene. Han har dog ikke lagt lige mange æg i de forskellige haver.

AFLÆS SKEMAET OG SVAR PÅ SPØRGSMÅLENE.

antal æg



I hvilken have er der flest æg?

Hvor æg er der tilsammen i have 1 og 3?

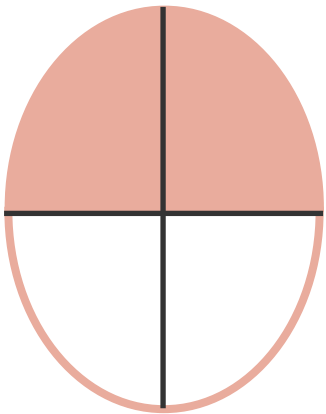
I hvilken have er der færrest æg?


Hvor mange æg er der i alt i de fire haver?


POST 7

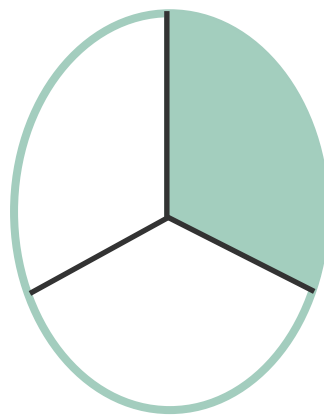
En brøk består af tre dele - en tæller, en nævner og en brøksteg. Hvis tælleren er større end nævneren, kalder vi det for en uægte brøk.


SKRIV PÅSKEÆGGETS BRØK.

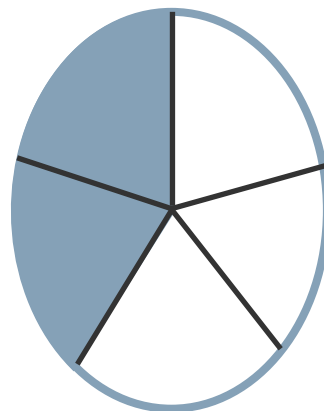













POST 8


Man kan forestille sig at påseharen har travlt, når det er påske. Der er nemlig rigtig mange familier, som holder påskefrokost og går på påskejagt i haven.

AFLÆS VISERNE PÅ DET RUNDE UR, OG SKRIV DET PÅ LINJEN.

Påseharen kommer i haven




kl. _____



Påseharen går videre til næste have




kl. _____



Påseharen fylder sin kruk op




kl. _____



Påseharen taber to påskeæg



kl. _____

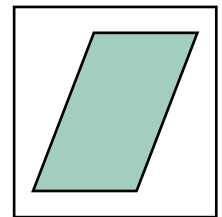


POST 9

Ved du hvad et gækkebrev er? Det er en sjov tradition, som man gøre det påske. Man skal skrive et sjovt gækkebrev og sende det til en man holder af. Personen har 3 gæt, til at gætte hvem det er. Hvis personen gætter det, skylder afsenderen den person et påskeæg.

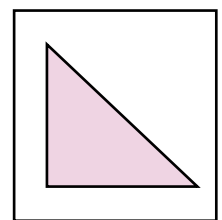
SKRIV 3 SÆTNINGER OM HVER FIGUR.













POST 10

I skal dekorere påskeæg til jeres påskefrokost i morgen. Derfor skal I nu ud og handle ind. I skal både bruge, maling, pensler, en voksdug og varm kakao. Det bliver rigtig sjovt og hyggeligt.

SVAR PÅ SPØRGSMÅLENE.



24 KR.



75 KR.



20 KR.



110 KR.



29 KR.

Hvad koster 4 kopper varm kakao?

Hvad koster maling og pensler i alt?

Hvad koster 5 pakker æg?

Hvad koster det i alt?
