

PÅSKEØB 1

MATEMATIK



Navn: _____

Klasse: _____

POST 1

En af de sjoveste traditioner er jagten på påskeæg. Påskeharen kommer og gemmer påskelækkerier ude i haven eller indenfor. Nogle er lette at finde, og nogle er svære at finde.

TÆL HVOR MANGE DER ER AF HVER.



Illustration of a collection of Easter-themed items: 3 blue rabbits, 3 yellow chicks, 5 carrots, and 7 flowers (3 pink, 4 blue).

Counting boxes on the right:

-  =
-  =
-  =
-  =
-  =

POST 2

Selvom der findes lækre chokoladeæg, er der også mange som maler og pynter rigtige æg. Først laver man et lille hul i ægget og derefter puster man det der er inde i ægget ud. Man maler ægget med flotte farver og mønstre.

HVAD ER HALVDELEN AF TALLET?



22 → _____

8 → _____

18 → _____

14 → _____

30 → _____

20 → _____

26 → _____

12 → _____

10 → _____

POST 3

Påskan er kristen tradition, hvor man fejrer at Jesus genopstod. I påskan er der både Skærtorsdag, Langfredag og Palmesøndag.

LØS REGNESTYKKERNE.

$$\text{Rainbow egg} + \text{Purple polka-dot egg} = \underline{\hspace{2cm}}$$

$$\text{Purple polka-dot egg} - \text{Green and yellow striped egg} = \underline{\hspace{2cm}}$$

$$\text{Yellow and orange striped egg} + \text{Rainbow egg} = \underline{\hspace{2cm}}$$

$$\text{Purple polka-dot egg} + \text{Purple polka-dot egg} = \underline{\hspace{2cm}}$$

$$\text{Yellow and orange striped egg} = 4$$

$$\text{Purple polka-dot egg} = 8$$

$$\text{Rainbow egg} = 7$$


$$\text{Green and yellow striped egg} = 5$$

POST 4

Påseharen har mistet sin kurv med påskeæggenes til alle børnene. Han kan simpelthen ikke huske, hvor han har glemt den henne. Kan du hjælpe ham med at finde den?

FIND VEJ GENNEM LABYRINTEN.

PLUS TALLENE SAMMEN, SOM DU MØDER UNDERVEJS.

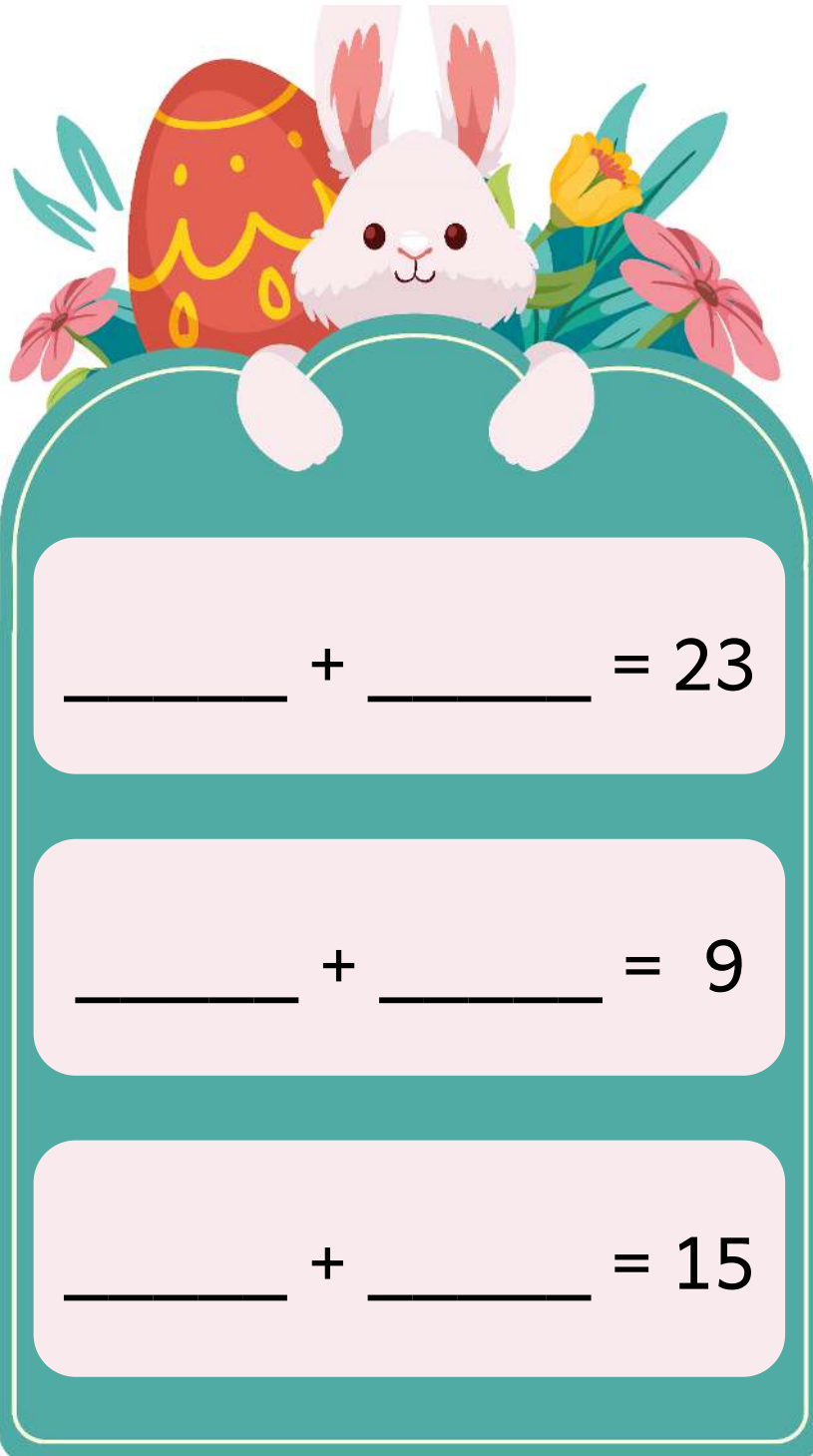


$$\square + \square + \square + \square + \square + \square + \square = \square$$

POST 5

Påskeliljer er smukke og flotte blomster, som springer ud omkring påske. Der er mange som synes at en buket påskeliljer pynter på påskebordet.

LAV REGNESTYKKER.



POST 6

Mange skoler holde påskeferie. Det betyder at skolen er lukket, og man har fri til at være sammen med sin familie. Der er faktisk også mange familier, som holder påskefrokoster.



FØLG TALLENE DER ER I 3-TABELLEN.

HJÆLP PÅSKEHAREN MED AT FINDE HAVEN,
HVOR HAN SKAL GEMME PÅSKEÆGGENE.

3	1	7	12	4	6	24
6	9	19	4	25	10	16
16	6	5	6	3	18	9
11	12	15	12	5	21	12
20	4	13	8	19	4	24
18	25	9	27	15	6	30




POST 7

Gåder handler om, at svare på en skør opgave. Den kan gemme tal eller bruge nogle skøre ord. I denne gåde skal du regne ud, hvilke tal der gemmer sig bag påseharen og påskeæggene.

LØS GÅDEN. HVILKE TAL GEMMER SIG BAG FIGURERNE?

 $+$  $=$ 13

 $+$  $=$ 6

 $=$?

 $=$?

POST 8

Når hele familien er samlet til påskefrokost, kan man hurtigt blive mange mennesker. Påseharen skal sørge for, at der er påskeæg nok til alle. Men er alle lige gode til at finde dem?

HVOR MANGE PÅSKEÆG HAR DE TRE VENNER HVER OG I ALT?

MILLE



WILLIAM



ALMA




$$\underline{\hspace{2cm}} \quad + \quad \underline{\hspace{2cm}} \quad + \quad \underline{\hspace{2cm}} \quad = \quad \underline{\hspace{2cm}}$$




MILLE WILLIAM ALMA

POST 9

Der er figurer overalt omkring os. Der er firkanter, trekanter og cirkler. Prøv at kig omkring dig. Hvor mange forskellige figurer kan du se?

HVOR MANGE ER DER AF HVER FIGUR?



 = _____  = _____  = _____

POST 10

En regnehistorie er en kort historie, som indeholder matematik. Det er en matematikopgave, som både består af ord og tal. Det kan være en god ide, at starte med at læse teksten og derefter spørgsmålet, som du skla finde svar på.

LØS RENGEHISTORIEN.

Mie er på påske-jagt.

Mie har fået 8 påske-æg.

Mie taber 3 påske-æg.

De går i stykker.



Hvor mange påske-æg har Mie tilbage?

Tegn svaret her.