


Påske matematik

1. klasse





Navn: _____

Klasse: _____

Tæl

Vi fejrer påske i foråret. Påsken er den vigtigste højtid inden for den kristne kirke. Den har noget med Jesus at gøre.

Tæl hvor mange der er, og skriv det i cirklen.



Plus

Måske kender du mest påske som en tid, hvor man er sammen med familien, og hvor påskeharen kommer med chokoladeæg?

Regn plusstykkerne ud.

$$\begin{array}{|c|} \hline \text{5 pink eggs} \\ \hline \end{array} + \begin{array}{|c|} \hline \text{4 blue eggs} \\ \hline \end{array} = \begin{array}{|c|} \hline \phantom{\text{ }} \\ \hline \end{array}$$

$$\begin{array}{|c|} \hline \text{3 patterned eggs} \\ \hline \end{array} + \begin{array}{|c|} \hline \text{4 purple eggs} \\ \hline \end{array} = \begin{array}{|c|} \hline \phantom{\text{ }} \\ \hline \end{array}$$

$$\begin{array}{|c|} \hline \text{4 striped eggs} \\ \hline \end{array} + \begin{array}{|c|} \hline \text{2 pink eggs} \\ \hline \end{array} = \begin{array}{|c|} \hline \phantom{\text{ }} \\ \hline \end{array}$$

$$\begin{array}{|c|} \hline \text{2 patterned eggs} \\ \hline \end{array} + \begin{array}{|c|} \hline \text{3 heart-patterned eggs} \\ \hline \end{array} = \begin{array}{|c|} \hline \phantom{\text{ }} \\ \hline \end{array}$$

Find den samme sum

Oprindeligt var påsken dog en kristen højtid, hvor man mindedes Jesus' sidste dage og hans død. Jesus døde nemlig i påsken.

Sæt streg mellem regnestykket og påskeægget med samme sum.

$4 + 5$



$7 + 1$



$3 + 3$



$5 + 2$




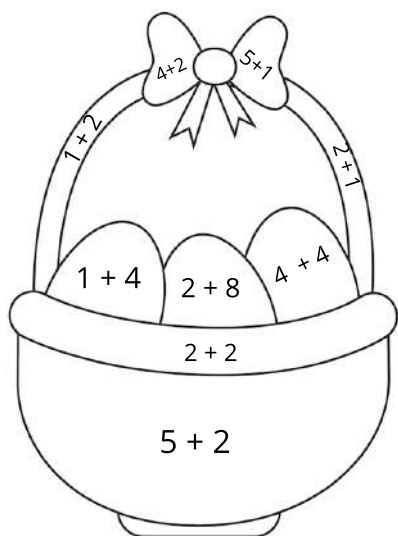


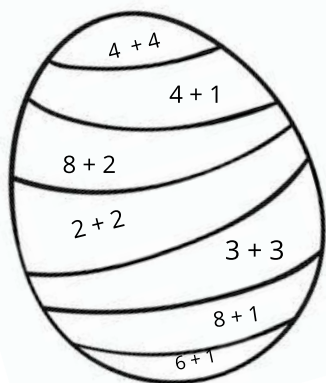
$1 + 2$



Farvelæg

Før var det almindeligt at faste i 40 dage inden påsken. Faste betyder, at man kun spiser og drikker meget lidt eller slet ingenting.

Regn og farv billederne.



7

5

10

4

9

8

6


3

Find vej ned til påskeharen

Når fasten sluttede spiste man æg. Æg er et symbol på sundhed og nyt liv. Et symbol er noget, der har en ekstra betydning.

Find vej ned til påskeharen. Du bestemmer selv, hvilken vej du tager. Alle tallene på din vej skal plusses sammen til sidst.

Start

4	7	6	3	1	2
3	8	4	2	9	3
2	5	6	6	3	8
7	1	4	1	7	5
6	9	2	3	5	2
5	6	7	4	9	1
9	2	5	1	8	

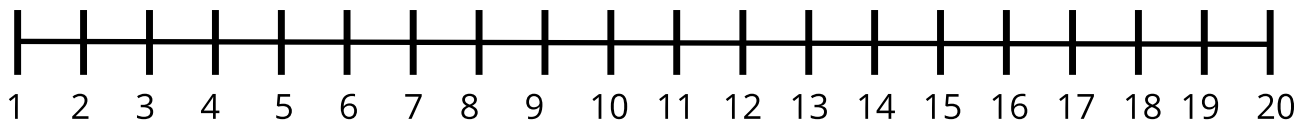
=

Løs regnestykkerne

Påsken består af fem dage: palmesøndag, skærtorsdag, langfredag, påskedag og anden påskedag.

Palmesøndag er søndagen før påskesøndag.

Find svaret på disse minus regnestykker. Brug tallinjen som hjælp.



$10 - 3 = \underline{7}$

$3 - 3 = \underline{\quad}$

$15 - 5 = \underline{\quad}$

$16 - 5 = \underline{\quad}$

$8 - 4 = \underline{\quad}$

$14 - 7 = \underline{\quad}$

$19 - 6 = \underline{\quad}$

$20 - 7 = \underline{\quad}$

$9 - 3 = \underline{\quad}$

$10 - 6 = \underline{\quad}$

$18 - 8 = \underline{\quad}$


$12 - 3 = \underline{\quad}$

$13 - 2 = \underline{\quad}$

$15 - 3 = \underline{\quad}$

$8 - 7 = \underline{\quad}$

$14 - 10 = \underline{\quad}$



Find svaret

Selvom Jesus døde i påsken, er påsken ikke kun trist. For der skete også noget godt. Fortællingerne om ham siger nemlig, at han stod op fra sin grav igen.

Find svaret på disse minus regnestykker og træk en streg hen til det rigtige resultat.

$13 - 1 =$

$9 - 2 =$

$11 - 4 =$

$15 - 11 =$

$17 - 5 =$

$20 - 8 =$

$11 - 7 =$

$16 - 9 =$

$10 - 6 =$



Minus og plus

Til påske pynter mange deres hjem med påskekyllinger og påskeharer. Man kan også hente nogle forårsgrene ind, sætte dem i en vase og hænge påskeæg på dem.

Minus og plus det tal, som står i ægget med tallet, der står i feltet nedenunder cirklen.



$$\begin{array}{r} \text{-} \quad \text{2} \quad \text{+} \\ \hline 18 \quad 20 \quad 22 \end{array}$$



$$\begin{array}{r} \text{-} \quad \text{5} \quad \text{+} \\ \hline \quad \quad 7 \quad \quad \end{array}$$

$$\begin{array}{r} \text{-} \quad \text{4} \quad \text{+} \\ \hline \quad \quad 10 \quad \quad \end{array}$$

$$\begin{array}{r} \text{-} \quad \text{10} \quad \text{+} \\ \hline \quad \quad 25 \quad \quad \end{array}$$

$$\begin{array}{r} \text{-} \quad \text{8} \quad \text{+} \\ \hline \quad \quad 10 \quad \quad \end{array}$$

$$\begin{array}{r} \text{-} \quad \text{15} \quad \text{+} \\ \hline \quad \quad 25 \quad \quad \end{array}$$

$$\begin{array}{r} \text{-} \quad \text{4} \quad \text{+} \\ \hline \quad \quad 9 \quad \quad \end{array}$$


$$\begin{array}{r} \text{-} \quad \text{6} \quad \text{+} \\ \hline \quad \quad 12 \quad \quad \end{array}$$

Skriv nabotallet

Du kan lave fine påskeæg til pynt ud af rigtige æg. Lav et lille hul i hver ende af ægget og pust ægget ud, uden at ødelægge skallen.

Bagefter kan du male æggeskallen.


Skriv tallet før og efter tallet i midten.



Tallet før



250



Tallet efter



Tallet før



449




Tallet efter



Tallet før



400



Tallet efter



Tallet før



501




Tallet efter



Tallet før



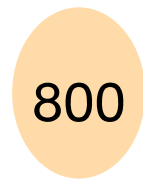
550



Tallet efter



Tallet før



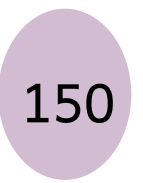
800




Tallet efter



Tallet før



150



Tallet efter




Tallet før



700




Tallet efter



Tallet før



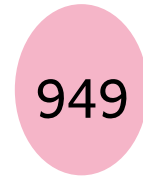
99



Tallet efter



Tallet før



949



Tallet efter

Sæt i rækkefølge

Påskesøndag er der mange, der mødes med familien og spiser påskefrokost. Hvilke traditioner har I i din familie til påske?

Sæt æggene i rækkefølge. Fra mindst til størst.

14	4	10	7	→	4	7		
20	5	25	15	→				
3	21	9	24	→				
12	8	24	16	→				
36	32	23	10	→				
18	8	44	35	→				
14	24	0	33	→				