

# PASTELAVN

Matematik




Navn: \_\_\_\_\_

Klasse: \_\_\_\_\_

# Prik til prik

I dette hæfte kan du lære om fastelavn og matematik på samme tid. Der mange sjove opgaver f.eks. prik til prik, farv med tal, mål med din lineal og regn med talrækker. God fornøjelse.

Tegn fra prik-til-prik og farvelæg bagefter.



# Hvor høj?

På denne side er der seks forskellige ting, som man ofte ser til fastelavn. Du skal finde din lineal frem og måle hvor høje hver ting er.

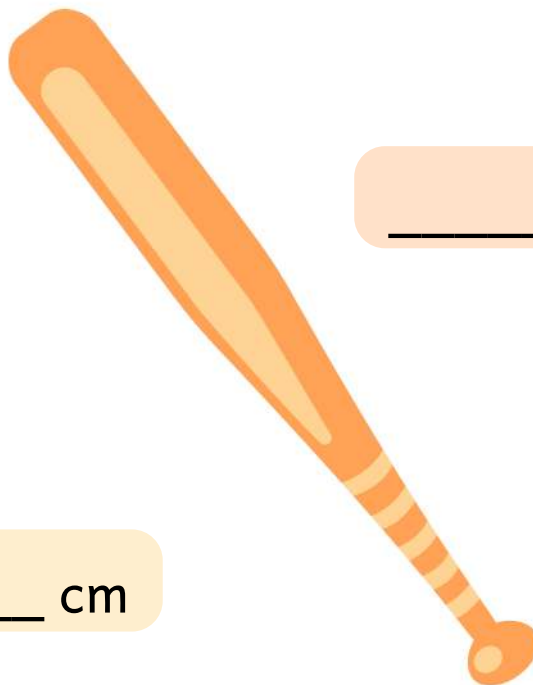
Brug din lineal, og mål hvor høj hver ting er.



\_\_\_\_\_ cm



\_\_\_\_\_ cm




\_\_\_\_\_ cm



\_\_\_\_\_ cm



\_\_\_\_\_ cm









\_\_\_\_\_ cm

# Tæl fastelavnsting

I denne opgave skal du tælle, hvor mange der er af hver ting. Vidste du at der er mange som slår katten af tønden? Den der får slikket til at falde ud, bliver kattekonge.

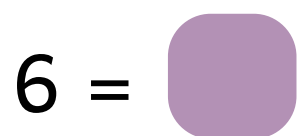
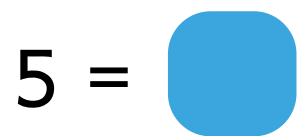
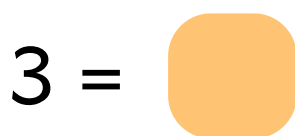
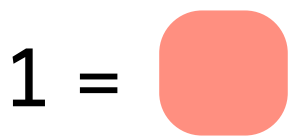
Tæl hver ting, og skriv tallet i firkanten ud for billedet.



	=	<input type="text"/>		=	<input type="text"/>
	=	<input type="text"/>		=	<input type="text"/>
	=	<input type="text"/>		=	<input type="text"/>

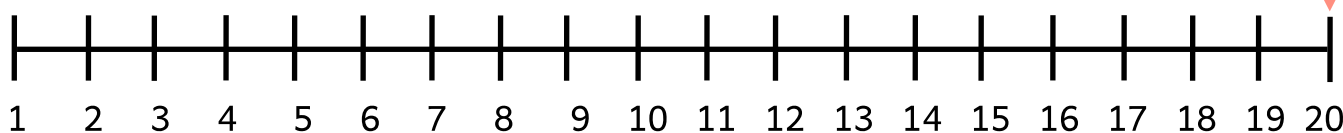
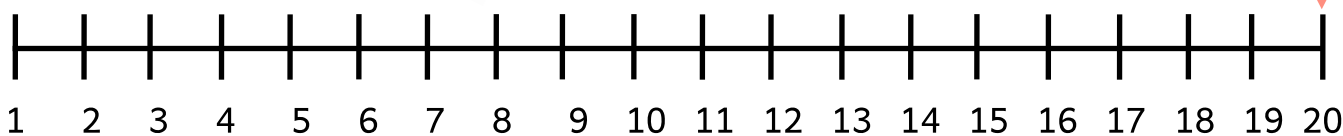
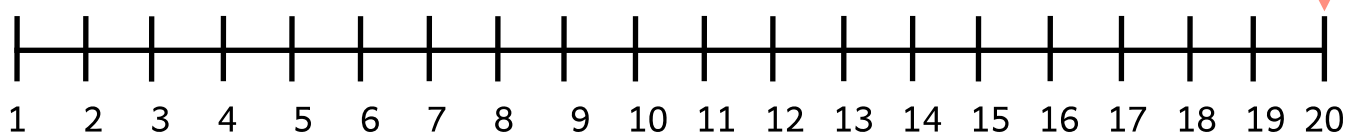
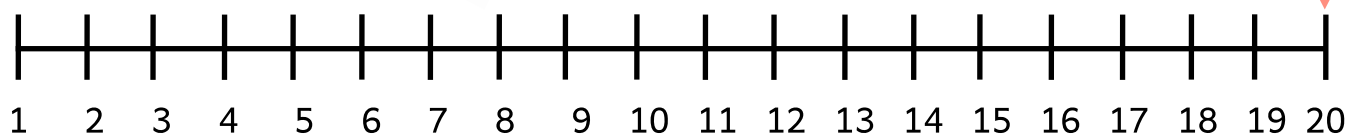
# Farvelæg masken

Der er nogle som tager maske på, når de tager til fastelavnsfest. Masken på denne side har flotte fjer, men hvilke farver er de? Kig nederst på siden og farv masken.






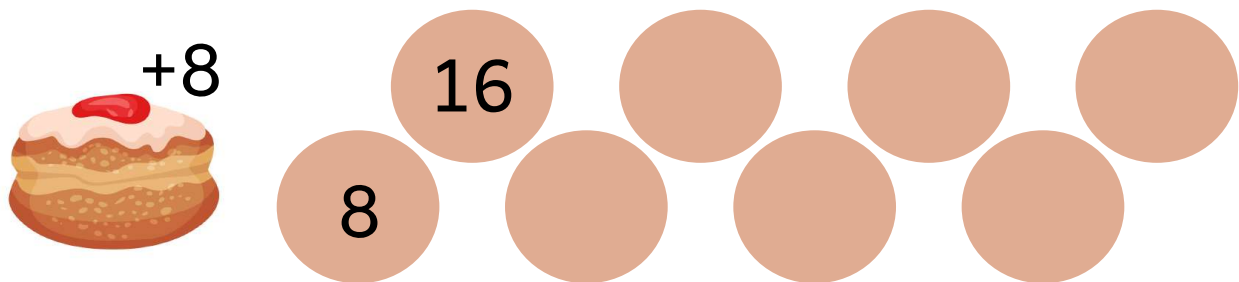
# Minusstykker på tallinje

I denne opgave skal du igang med at trække tal fra hinanden. Du skal starte ved tallet 20. Derefter trækker du det tal, som står i hatten fra. Så det tal der står i ballonen og til sidst det tal, der står i karamellen.



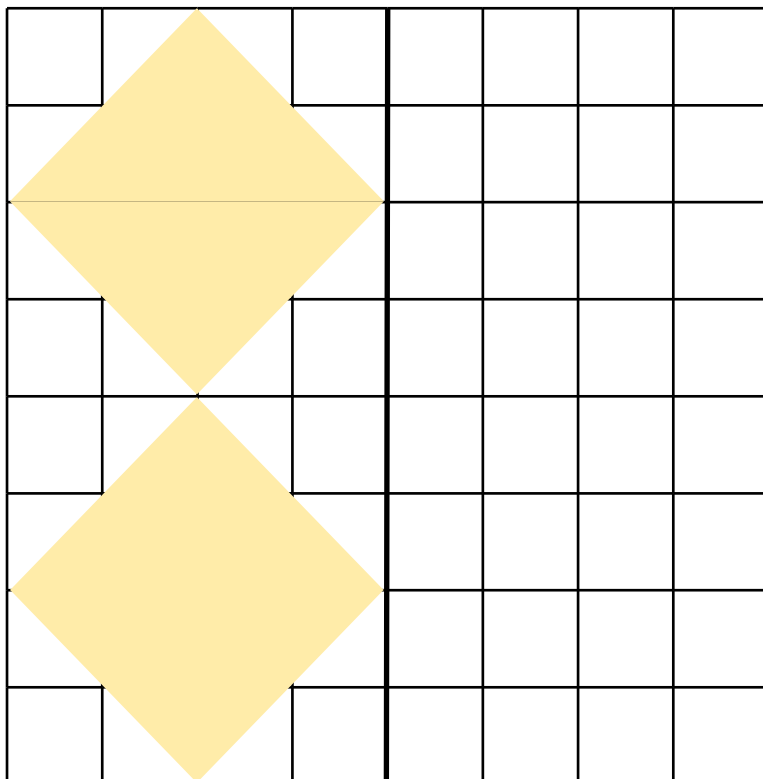
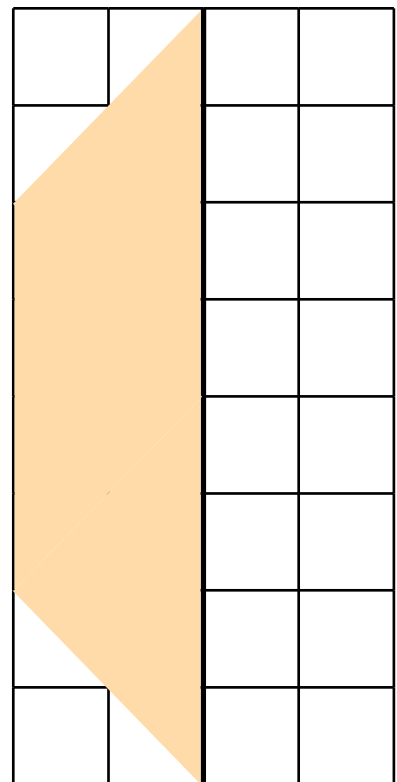
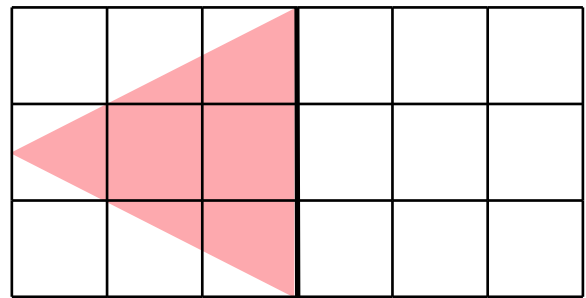
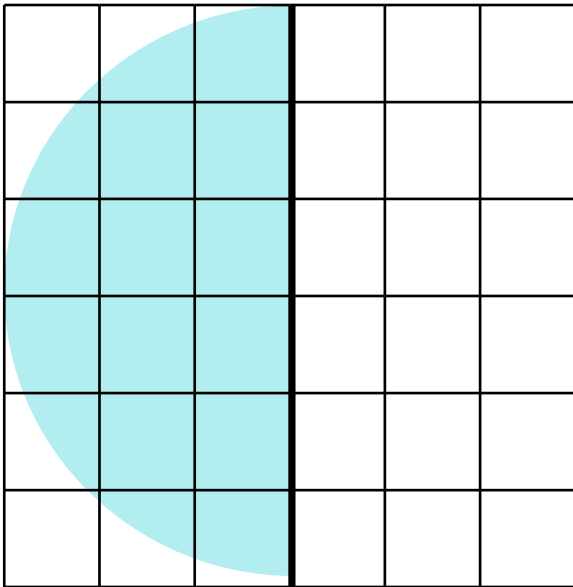
# Plusrækker

Her skal du færdiggøre talrækkerne. En talrække er en række af tal, som følger et bestemt mønster. I den øverste talrække med fastelavnsskallen, stiger tallet med 8 hver gang.



# Spejling

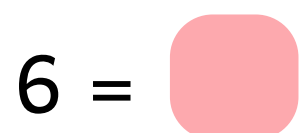
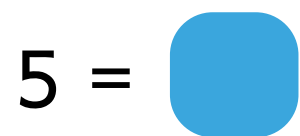
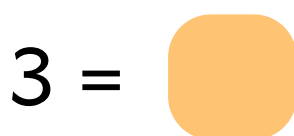
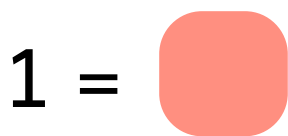

På denne side skal du spejle de forskellige figurer. Det kan være en god idé at finde en lineal frem, så tegningerne bliver helt lige og flotte. Find også dine spidsede farveblyanter frem, så du kan farvelægge figurerne bagefter.





# Farvelæg kostumerne

Man kan helt selv vælge, hvad man gerne vil klædes ud som, når man skal til fastelavnsfest. Hvad var du klædt ud som til den sidste fastelavnsfest, du var til?





# Løs regneslangen

Kender du sangen, som man synger, når man går "slik eller ballade"? Det lyder sådan her "Boller op, boller ned, boller i mave - hvis jeg ingen boller får, så laver jeg ballade".

→ **-2** **+5** **-10** **+3**

10 ○ ○ ○ ○

→ **+6** **-1** **-3** **+7**

2 ○ ○ ○ ○

→ **-4** **+3** **+1** **-2**

5 ○ ○ ○ ○

→ **+9** **-7** **+8** **-4**

1 ○ ○ ○ ○

# Plus eller minus?

Nu skal du spidse blyanten. På denne side skal du løse en masse små plus- og minusstykker. Find ud af hvilken regneart, som får regnestykket til at gå op, og skriv det på linjen.



Skriv + eller - på linjen, så regnestykket passer.

$7 \_ 4 = 11$

$7 \_ 7 = 14$

$8 \_ 2 = 6$

$2 \_ 3 = 5$

$9 \_ 3 = 6$

$6 \_ 1 = 7$

$2 \_ 2 = 4$

$11 \_ 5 = 6$

$1 \_ 0 = 1$

$20 \_ 8 = 12$

$11 \_ 7 = 18$

$12 \_ 12 = 24$

$10 \_ 8 = 2$

$11 \_ 3 = 8$

$3 \_ 1 = 2$

$10 \_ 10 = 0$

$5 \_ 5 = 10$

$8 \_ 8 = 16$