

Færdighedsregning

Matematik



Navn: _____

Klasse: _____

Færdighedsregning

Nu skal din hjerne på arbejde! Du skal lave færdighedsregning, og der må du ikke bruge lommeregner. For at gøre det lidt sjovere, får du et bogstav, hver gang du har løst en af opgaverne.

Bogstaverne skal du skrive ind på bagerste side i bunden. Når du har løst alle opgaverne, finder du frem til en hemmelig opskrift, som kan fortælle dig, hvordan man bliver god til matematik.



Fortsæt talrækken.

2
5
11
23

1 = b

Løs regnestykket.

$$64 + 86 =$$

4 = v

Omskriv til procent.

0,76

_____%

3 = i

Bent og Marianne går en lang tur sammen hver dag. Tilsammen går de 35 km. Hvor mange km går de hver?

_____ km hver

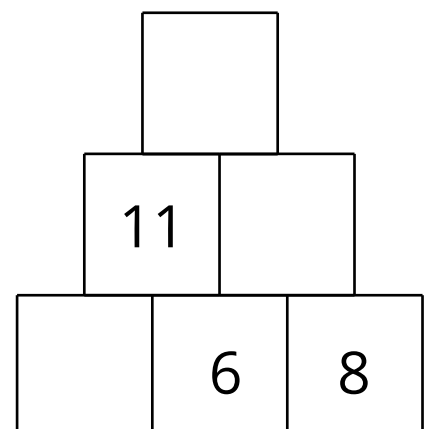
2 = l

Hvad giver regnestykket, hvis $a = 5$ og $b = 9$?

$$2 + a - b + 15$$

8 = m

Lav talpyramiden færdig.



6 = e

Løs regnestykket.

$$14 \times 5 =$$

7 = d

Fire venner er ude og gå "slik eller ballade". Mie får 20 stykker slik. Sofie får halvt så mange som Mie. Laura får dobbelt så mange som Mie. Nanna får 5 stk. færre end Laura.

Hvor mange stykker slik har hver person?

Mie

Sofie

Laura

Nanna

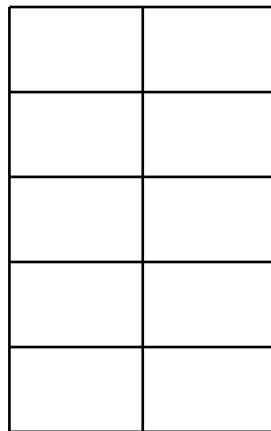
5 = v

Omskriv til kommatall og farvelæg figuren.

60 %



_____ ,



9 = e

Fortsæt talrækken.

5

12

19

26

33

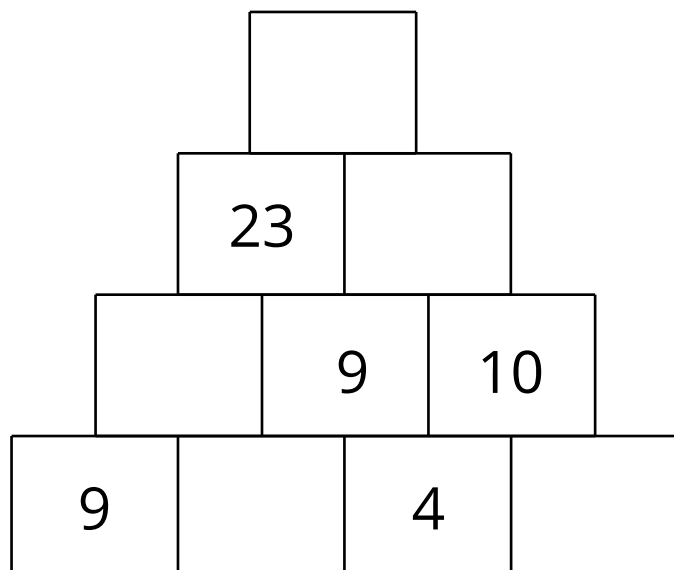
14 = v

Hvad giver regnestykket, hvis $a = 7$ og $b = 2$?

$$6 \times b + 9 - a$$

10 = d

Lav tal pyramiden færdig.



12 = t

Fortsæt talrækken.

7

9

12

16

_____ **18 = g**

Peter, Jonas og Alberte har i alt 69 kroner.
Hvor mange får de, hvis de deler dem lige imellem sig?

_____ kr. hver

11 = a

Hvilket to regnestykker giver det samme? Sæt kryds.

$43 + 15 + 8 =$ _____

$15 \times 4 + 18 =$ _____

$105 - 25 - 12 =$ _____

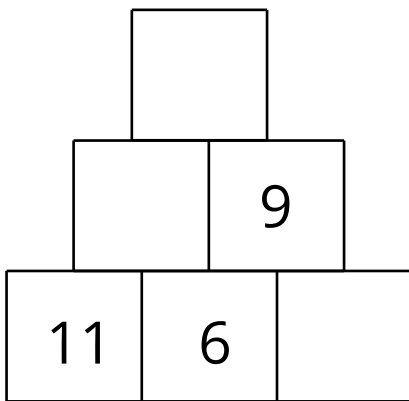
15 = e

Løs regnestykket.

$0,7 + 1,5 =$

16 = d

Lav talpyramiden færdig.



17 = i

Omskriv fra kg til g.

$0,5 \text{ kg} =$ _____ g

$0,1 \text{ kg} =$ _____ g

$1,2 \text{ kg} =$ _____ g

$1 \text{ kg} =$ _____ g

$0,25 \text{ kg} =$ _____ g

$0,75 \text{ kg} =$ _____ g

13 = ø

Den hemmelige opskrift

1 2 3 4 5 6 7 8 9 10 11 12 13 14 15 16 17 18