

HALLOWEENLØB 2

MATEMATIK



Navn: _____

Klasse: _____

POST 1

Når det er halloween er der mange som kan lide at lave dekorationer af græskarer. Først udhuler man et græskar, derefter skærer man et ansigt i den, og til sidst tænder man et fyrfadsllys og putter ned i den.

LØS GÅDEN.

$$\text{Pumpkin} + \text{Spider} + \text{Bat} = \underline{25}$$

$$2 \times \text{Spider} + \text{Bat} = \underline{18}$$

$$3 \times \text{Bat} = \underline{12}$$



= _____



= _____




= _____

POST 2

Nogle mener at sorte katte bringer uheld når det er Halloween. Der er også nogle der siger, at det bringer uheld at se en sort kat krydse en vej. I virkeligheden er sorte katte lige så søde som alle andre katte.

LÆS HISTORIEN OG SVAR PÅ SPØRGSMÅLET.

Edderkoppen Charlotte elskede at spinde sit spindelvæv. Hver dag fanger Charlotte insekter, så hun kan blive mæt. En dag fanger hun 6 myg om morgenen og 5 fluer om eftermiddagen. Til aftensmad spiser hun 4 græshopper og 3 møl. Hun fanger dog også 2 fluer om natten, men dem spiser hun ikke, da hun allerede er mæt.



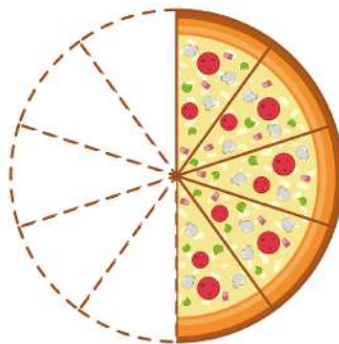
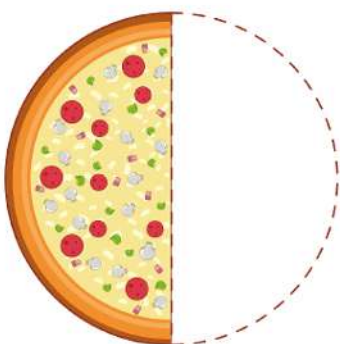
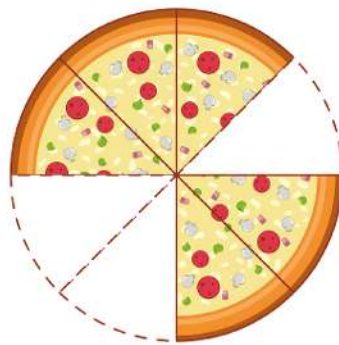
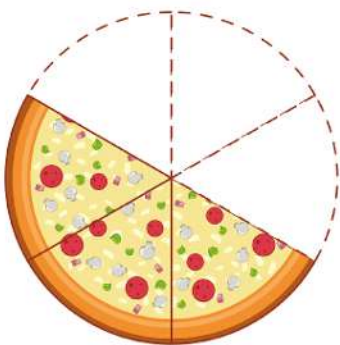
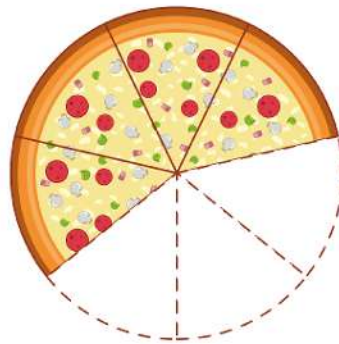
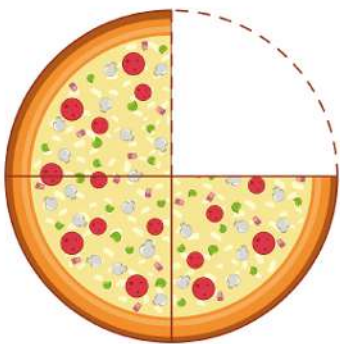
HVOR MANGE DYR SPISER CHARLOTTE I ALT?

POST 3

Til Idas halloweenfest er alle klædt ud, og de fortalt uhyggelige historier til hinanden. Nu er de blevet sultne og de skal have pizza. De har bestilt flere forskellige slags pizzaer. Hjælp dem med at finde ud af, hvor meget der er tilbage af hver pizza.



SKRIV BRØKEN.



POST 4

Faktisk kan græskarer bruges til meget mere end pynt. Græskar kan også bruges til meget andet. Man kan lave mange forskellige retter med græskar. Både græskartærte og græskarsuppe. Og det smager lækkert.

LAV 3 FORSKELLIGE REGNESTYKKER DER GIVER 58.



_____ = 58

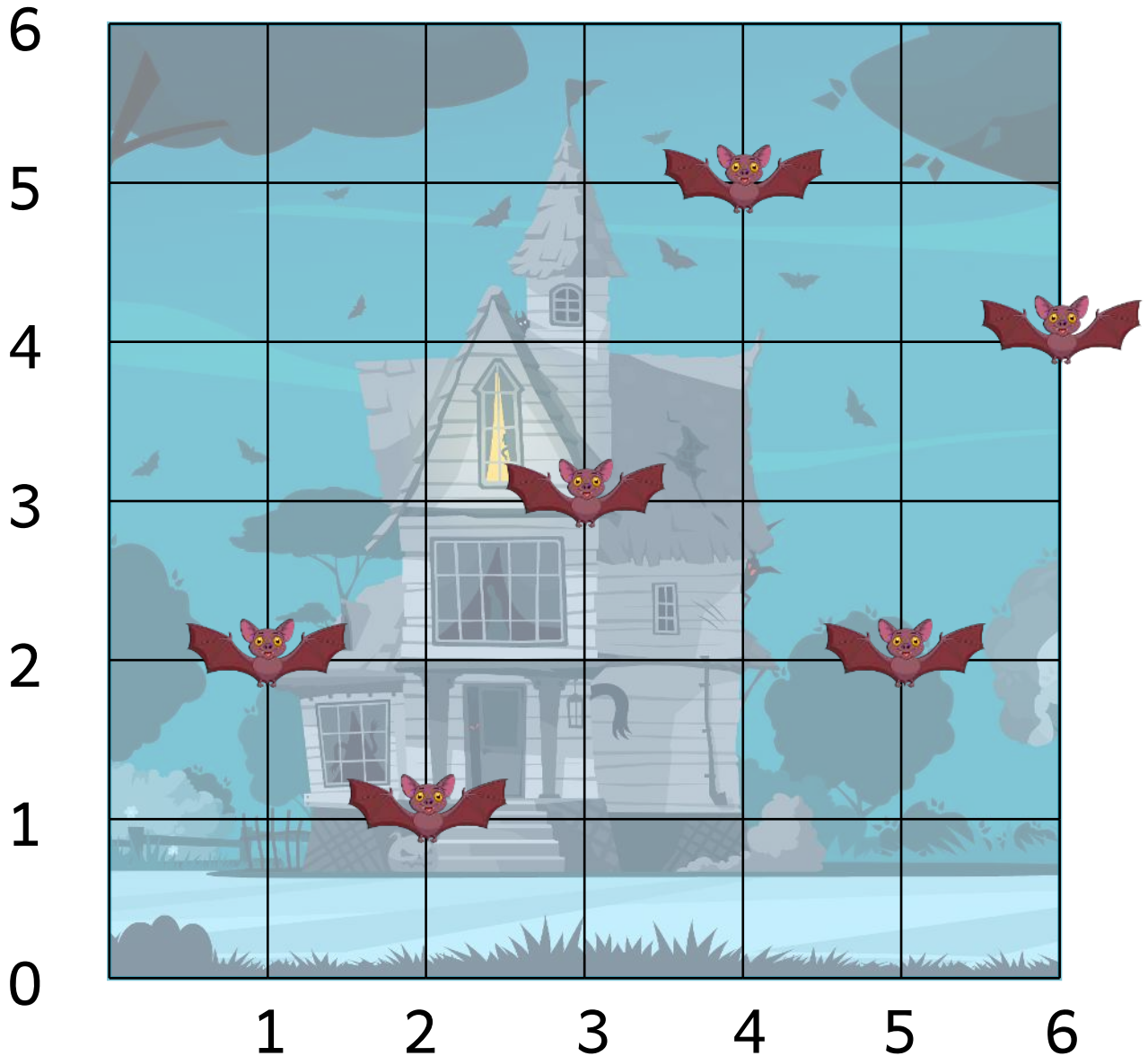
_____ = 58

_____ = 58

POST 5

Mange mennesker dekorerer deres huse med uhyggelige ting. Det kann både være edderkopper, spøgelser eller maskiner som kan lave skræmmende lyde, hvis nogle går forbi.

SKRIV KOORDINATERNE FOR FLAGERMUSENE.



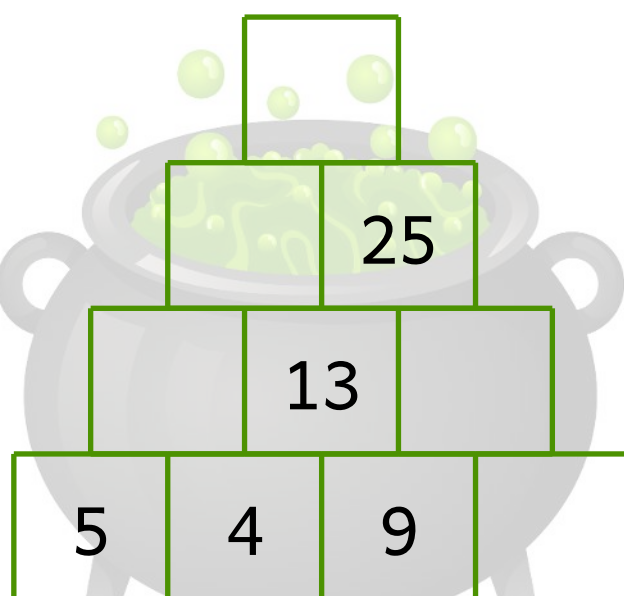
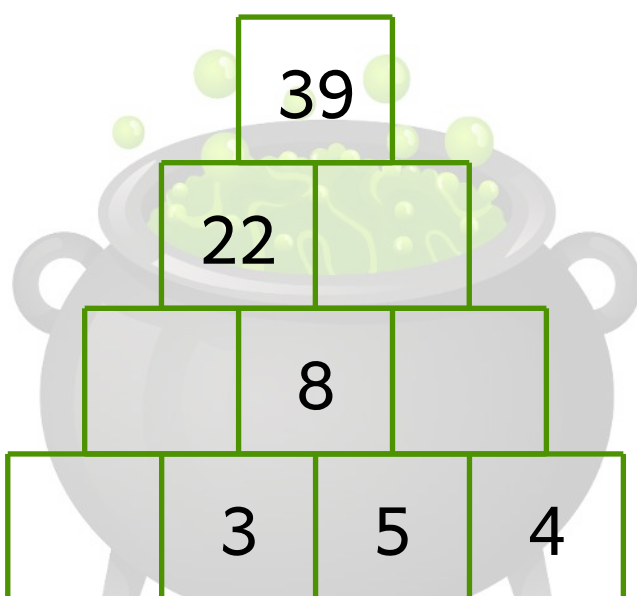
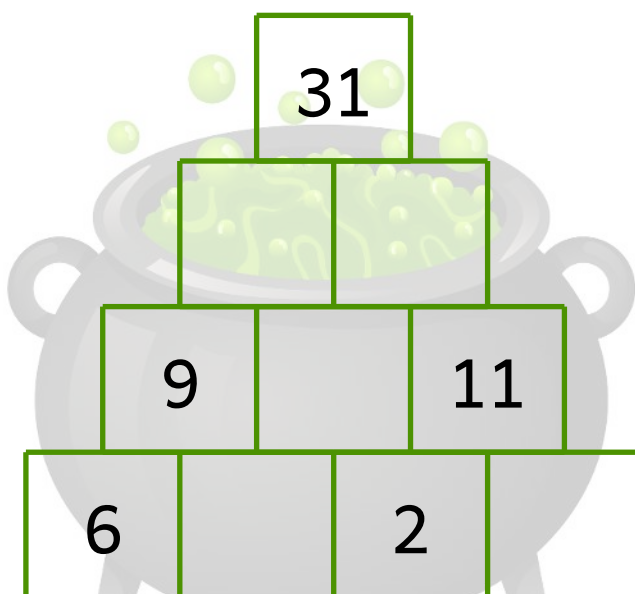
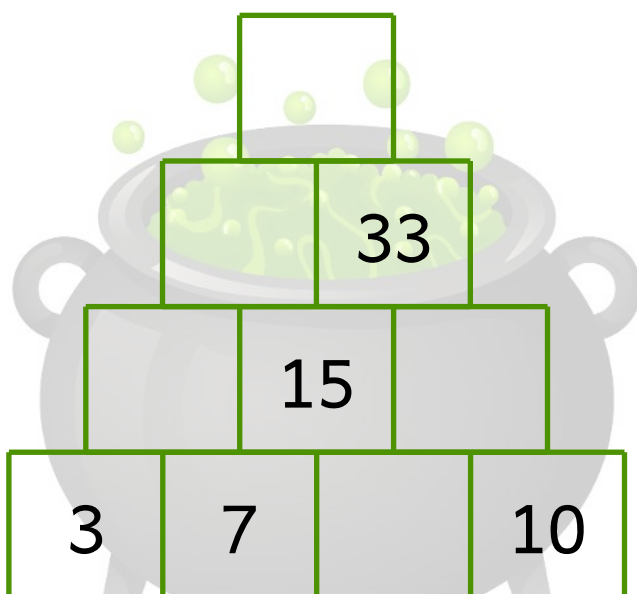
 (,)  (,)  (,)

 (,)  (,)  (,)

POST 6

En tal pyramide er en figur, som indeholder forskellige tal. Tal der står ved siden af hinanden skal plusses sammen, og skrives i kassen ovenover. Sådan fortsætter man indtil alle tallene er udfyldt.

UDFYLD DE TOMME FELTER I TALPYRAMIDERNE.



POST 7




Fire venner har været ude og gå "trick or treat". I skemaet nedenfor kan du se hvilket slik de hver har fået, og hvor mange stykker de har fået.

AFLÆS SKEMAET OG SVAR PÅ SPØRGSMÅLENE.

			
	8	12	3
	5	9	5
	13	7	6
	6	2	10

Hvor mange  har de fået tilsammen? _____

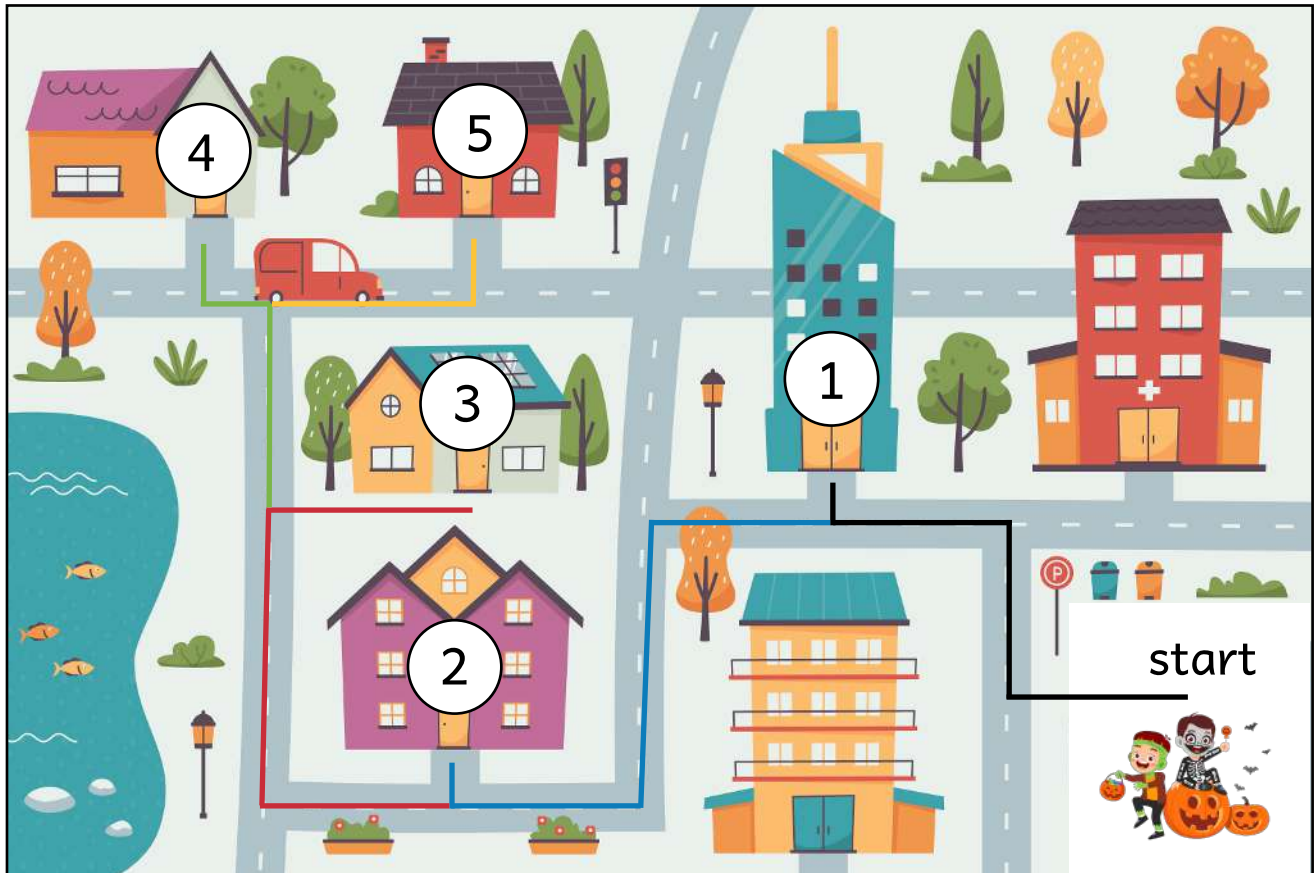
Hvem har fået mest slik? Hvor mange stykker? _____

Hvilket stykke slik har de fået flest af?   

POST 8

Line og hendes venner skal ud og gå "trick or treat". De skal gå 3,5 kilometer. De har 5 stop, hvor de skal ind og banke på døren. De ved dog ikke hvor langt der mellem hvert stop.

SKRIV HVOR LANGT DER MELLEM HVERT STOP.



Ruten er 3,3 kilometer. Skriv hvor langt der kan være mellem hvert stop, så ruten bliver 3,5 kilometer i alt.

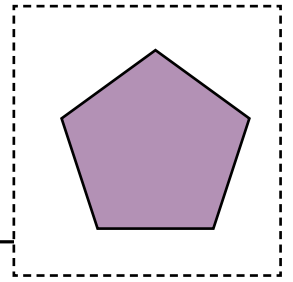
	sort rute	blå rute	rød rute	grøn rute	gul rute	i alt
meter						3,5 km

POST 9

En sjov og uhyggelig Halloween aktivitet kan være, at besøge en kornmarks-labyrint. Så handler det om at løbe rundt og forskrække hinanden. Og håbe at man ikke bliver væk!

SKRIV 3 SÆTNINGER SOM BESKRIVER FIGUREN.

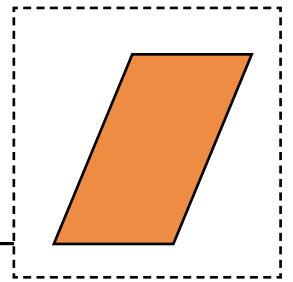
1



2

3

1



2

3

POST 10

En talrække er en liste af tal, som kommer i en bestemt rækkefølge.
En talrække er lidt ligesom et mønster, bare med tal. Rækken vokser eller faldet efter en bestemt regel.

LAV TALRÆKKERNE FÆRDIGE.

