

# Mit hæfte med minus

## - Niveau 2



# Minus

At regne med minus kaldes også at trække noget fra. Det skal du bruge, hvis du f.eks. skal købe noget og skal regne ud, hvor meget du får tilbage.

Løs minusstykkerne ved hjælp af skemaet.

Hundreder	Tiere	Enere
	4	9
-	2	5
=		

Hundreder	Tiere	Enere
	6	8
-	4	5
=		

Hundreder	Tiere	Enere
	7	9
	3	3
=		
-	2	2
=		

Hundreder	Tiere	Enere
	5	8
	3	4
=		
-	1	2
=		



# Minus



Det kan ofte være en hjælp at skrive et minusstykke ned på papir, som du kan se i eksemplerne her på siden. Du kan tænke på tallene som tiere og enere.

Træk tallene fra hinanden ved hjælp af skemaet.

$$\begin{array}{r} \text{Tiere} \quad \text{Enere} \\ 4 \quad 2 \\ - \quad \quad 3 \\ \hline \end{array}$$
$$\begin{array}{r} \text{Tiere} \quad \text{Enere} \\ 6 \quad 2 \\ - \quad \quad 5 \\ \hline \end{array}$$
$$\begin{array}{r} \text{Tiere} \quad \text{Enere} \\ 8 \quad 4 \\ - \quad \quad 1 \\ \hline \end{array}$$
$$\begin{array}{r} \text{Tiere} \quad \text{Enere} \\ 5 \quad 8 \\ - \quad \quad 3 \\ \hline \end{array}$$
$$\begin{array}{r} \text{Tiere} \quad \text{Enere} \\ 7 \quad 1 \\ - \quad \quad 7 \\ \hline \end{array}$$
$$\begin{array}{r} \text{Tiere} \quad \text{Enere} \\ 2 \quad 1 \\ - \quad \quad 1 \\ \hline \end{array}$$
$$\begin{array}{r} \text{Tiere} \quad \text{Enere} \\ 4 \quad 0 \\ - \quad \quad 2 \\ \hline \end{array}$$
$$\begin{array}{r} \text{Tiere} \quad \text{Enere} \\ 1 \quad 8 \\ - \quad \quad 1 \\ \hline \end{array}$$
$$\begin{array}{r} \text{Tiere} \quad \text{Enere} \\ 8 \quad 1 \\ - \quad \quad 1 \\ \hline \end{array}$$

# Rigtig eller forkert?

Et minusstykke er på en måde som et plusstykke regnet baglæns:

$$57 - 13 = 44 \text{ og } 44 + 13 = 57.$$

Så hvis du synes, at minus er svært, så prøv at regne baglæns!

Sæt  ved de minusstykker der er rigtige.

Sæt  ved de minusstykker der er forkerte.


$57 - 13 = 44$



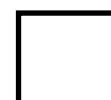
$111 - 99 = 12$



$60 - 15 = 55$



$55 - 32 = 26$



$25 - 23 = 3$



$80 - 29 = 49$



$101 - 90 = 11$



$81 - 30 = 51$



$90 - 45 = 50$



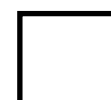
$21 - 12 = 9$



$105 - 65 = 50$



$142 - 45 = 94$



$138 - 39 = 99$



$122 - 11 = 100$





# Minus



Du kan forestille dig, at tallene er énkroner og tikroner. Hvis du har fem tikroner og én énkrone og skal betale 7 énkroner, så er du nødt til at veksle en tikrone til ti énkroner først.

Brug skemaet til at finde ud af, hvad der skal trækkes fra.

Tiere	Enere
7	7
- 2	- 1
5	6

Tiere	Enere
4	6
-	
3	3

Tiere	Enere
5	7
-	
1	4

Tiere	Enere
5	5
-	
4	8

Tiere	Enere
2	1
-	
	9

Tiere	Enere
9	5
-	
4	0

Tiere	Enere
8	3
-	
6	5

Tiere	Enere
7	1
-	
3	0

Tiere	Enere
4	2
-	
1	8



# Find svaret



Kan du regne i hovedet? Hvor meget skal du lægge til tallet, der står efter minustegnet, for at resultatet bliver det første tal?

Sæt streg hen til det rigtige svar.

$80 - 31$

$28 - 17$

$42 - 9$

$33 - 11$

$73 - 42$

$96 - 37$

33

49

59

22

31

11



# Minus



Her er en øvelse mere. Du kan bruge metoden med at trække éernerne fra først og derefter tierne - eller du kan "regne baglæns".



Løs regnestykkerne.  
Streg tallet over i nederste boks.

$56 - 31 = \underline{25}$

$92 - 30 = \underline{\quad}$

$73 - 21 = \underline{\quad}$

$19 - 9 = \underline{\quad}$

$83 - 8 = \underline{\quad}$

$21 - 12 = \underline{\quad}$

$71 - 29 = \underline{\quad}$

$38 - 25 = \underline{\quad}$

$85 - 25 = \underline{\quad}$

$49 - 19 = \underline{\quad}$

$53 - 20 = \underline{\quad}$

$25 - 17 = \underline{\quad}$

8    62    10    33    13     52    42    48

75    5    60    70    25    55    30    9

# Minus

Nu skal du også prøve at minusse hundreder. Metoden er den samme. Husk at du kan blive nødt til at "veksle".



Træk tallene fra hinanden.



Hundreder	Tiere	Enere
4	9	8
- 3	7	2

Hundreder	Tiere	Enere
6	0	5
- 1	2	4

Hundreder	Tiere	Enere
5	3	6
- 2	1	5

Hundreder	Tiere	Enere
4	8	8
- 3	7	1

Hundreder	Tiere	Enere
2	4	7
- 2	2	6

Hundreder	Tiere	Enere
5	2	8
- 5	1	8



# Samme sum



Når du øver dig, bliver du bedre til at se tallene for dig i hovedet. Det er godt at kunne lidt hovedregning - det kan man ofte få brug for i hverdagen.

Forbind de regnestykker som har samme sum.



$$35 - 20$$

$$42 - 20$$

$$82 - 65$$

$$35 - 24$$

$$58 - 34$$

$$43 - 28$$

$$39 - 17$$

$$42 - 25$$

$$62 - 51$$

$$55 - 20$$

$$68 - 33$$

$$36 - 12$$

# Minus

Jo større tallene er, des sværere ser regnestykket måske ud. Men du skal bare starte med enerne, derefter tierne og til sidst hundrederne.

Træk tallene fra hinanden.

Hundreder	Tiere	Ener
3	9	2
- 3	4	1

Hundreder	Tiere	Ener
5	5	8
- 2	3	9

Hundreder	Tiere	Ener
6	7	4
- 4	3	2

Hundreder	Tiere	Ener
2	8	2
- 1	1	3

Hundreder	Tiere	Ener
1	3	8
- 1	2	9

Hundreder	Tiere	Ener
4	0	0
- 2	4	6

# Minus



Hvis du synes, det er svært at holde styr på mange tal, så kan du lave mellemregninger. Start med at minusse det første tal, skriv resultatet ned, og minus derefter det næste.



Træk tallene fra hinanden.



$$65 - 25 - 10 =$$

$$70 - 29 - 11 =$$

$$49 - 30 - 9 =$$

$$58 - 13 - 23 =$$

$$99 - 90 - 4 =$$

$$27 - 9 - 8 =$$

$$63 - 42 - 6 =$$

$$84 - 58 - 14 =$$