



Matematikhæfte 1. klasse



Ho-Ho-Ho





Navn: _____

Klasse: _____

Tæl

Tæl hvor mange der er, og skriv det i cirklen.

Har du svært ved at vente til juleaften? Der er mange hyggelige og sjove ting, man kan lave i december. Du kan få nogle idéer på de næste sider.



Plus

Regn plusstykkerne ud.


Du kan for eksempel gå en tur i skoven og samle kogler til en flot juledekoration. Du skal bruge et lys, noget gran, lidt ler og en skål til at sætte det i.



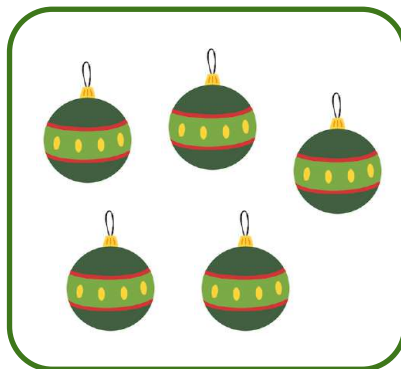
+





=



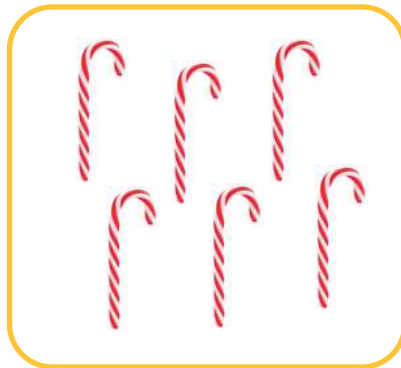
+




=



+




=



+





=



Farvelæg

Regn og farv billederne.

Det kan også være hyggeligt at lave sit julepynt selv.
Har du prøvet at flette et julehjerte eller en julestjerne?
Man kan også lave hjemmelavede julegaver.



4

9

7

3

5

8

10

Find den samme sum

Sæt streg mellem regnestykket og nissehuen med samme sum.

Eller du kan bage julesmåkager eller lave konfekt. Men pas på, at du ikke kommer til at spise det hele inden juleaften!

$5 + 4$



$3 + 6$

$3 + 3$



$5 + 3$

$10 + 2$



$7 + 5$

$4 + 1$



$3 + 2$

$1 + 7$



$2 + 4$

Find vej ned til julemanden

Find vej ned til julemanden. Du bestemmer selv, hvilken vej du tager. Alle tallene på din vej skal plusses sammen til sidst.

Mange steder leger man også hyggelige julelege i december. F.eks. kan man være nisse for en anden og finde på nisseløjer. Eller man kan spille pakkespil.

Start

2	1	7	6	3	2
3	0	4	8	1	4
4	5	7	3	1	8
7	2	3	1	6	5
8	0	2	6	7	2
6	3	8	5	4	1
1	9	2	7	5	

=

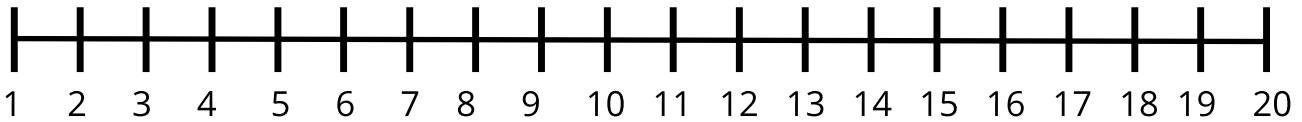


Løs regnestykkerne



Find svaret på disse minus regnestykker. Brug tallinjen som hjælp.

Det er ekstra flot, hvis der kommer sne i december. Så glitrer alle julelysene i sneen ligesom diamanter.



$20 - 3 = \underline{\quad}$

$15 - 10 = \underline{\quad}$



$10 - 2 = \underline{8}$



$2 - 1 = \underline{\quad}$

$20 - 5 = \underline{\quad}$

$16 - 8 = \underline{\quad}$

$16 - 5 = \underline{\quad}$

$20 - 11 = \underline{\quad}$



$17 - 3 = \underline{\quad}$

$14 - 4 = \underline{\quad}$

$11 - 2 = \underline{\quad}$



$19 - 3 = \underline{\quad}$

$7 - 6 = \underline{\quad}$

$6 - 2 = \underline{\quad}$

Find svaret

Find svaret på disse minus regnestykker og træk en streg hen til det rigtige resultat.

De fleste af os har gode minder fra julen, om det er en særlig gave, hyggen ved juletræet eller roen, så er det bare en dejlig tid.



$10 - 5 =$

$12 - 3 =$

$16 - 2 =$

$15 - 10 =$

$11 - 2 =$

$10 - 1 =$

$20 - 6 =$



$13 - 8 =$

$18 - 4 =$

Minus og plus

Minus og plus det tal, som står i julestjernen med tallet, der står i feltet nedenunder julestjernen.

Mange har stjerne hængende i julen. Det er både udenfor og indenfor man ser lysende stjerner. Nogle har også lysende julemænd og snemænd.

-	3	+
15	18	21

-	6	+
	12	

-	2	+
	13	

-	4	+
	8	

-	5	+
	15	

-	10	+
	25	

-	12	+
	10	

-	8	+
	7	

Skriv nabotallet

Skriv tallet før og efter tallet i midten.

I julen fejrer vi Jesus' fødsel, hvor der netop stod en stjerne højt på himlen den nat, han blev født.



Tallet før

Tallet efter



Tallet før

Tallet efter



Tallet før

Tallet efter



Tallet før

Tallet efter



Tallet før

Tallet efter



Tallet før

Tallet efter



Tallet før

Tallet efter



Tallet før

Tallet efter



Tallet før

Tallet efter



Tallet før

Tallet efter

Sæt i rækkefølge

Sæt figurerne i rækkefølge. Fra mindst til størst.

Vi har mange symboler, der minder os om julen - en nissehue, juletræ, rensdyr, bjælder og gaver.

