

10'er venner



Navn: _____




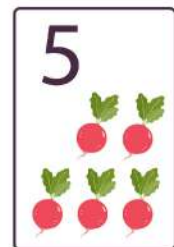


Klasse: _____



Dan 10'er venner



10'er venner er tal, som til sammen giver 10. At finde 10'er venner kan være en hjælp til at regne.





Udfyld feltet



Kig på tallene i venstre side. Hvor meget skal du lægge til, for at resultatet bliver 10? Hvis du skal plusse en række tal, så er det lettest at starte med de tal, der giver 10 tilsammen.

$$1 + \underline{\hspace{2cm}} = 10$$

$$9 + \underline{\hspace{2cm}} = 10$$

$$8 + \underline{\hspace{2cm}} = 10$$

$$7 + \underline{\hspace{2cm}} = 10$$

$$4 + \underline{\hspace{2cm}} = 10$$

$$5 + \underline{\hspace{2cm}} = 10$$

$$2 + \underline{\hspace{2cm}} = 10$$

Farvelæg de rigtige 10'er venner

Siden her trænger til lidt kulør. Find dine farveblyanter frem og farv de tal-par, som giver 10, når man lægger dem sammen.

$1+8$

$2+8$

$7+3$

$4+5$

$7+5$

$10+1$

$3+3$

$1+9$

$4+6$

$5+5$

$1+3$

$8+2$

$10+0$

$7+3$

$6+3$

$5+3$

$9+1$

Find 10'er vennen

Hvad skal der mon stå på de grønne æbler, der mangler tal?
Resultatet for hvert træ skal være 10. Skriv de manglende tal.



Farv felterne

Når du øver dig i at finde 10'er venner, bliver det efterhånden let som en leg. Det kan hjælpe at se tallene som farver eller billeder.

Farv første tal med **grøn** og andet tal med **rød**

$4 + 6 = 10$



$7 + 3 = 10$



$5 + 5 = 10$



$2 + 8 = 10$



$1 + 9 = 10$



$6 + 4 = 10$



$8 + 2 = 10$



$3 + 7 = 10$







$5 + 5 = 10$



Find 10'er venner

Hvis du skal tælle en stor mængde af noget, kan det være en hjælp at samle det i bunker af 10. Bagefter kan du tælle, hvor mange 10'er bunker du har.



Tegn streger så regnestykket passer

Find to tal, der tilsammen giver 10 og tegn streger hen til et plus, som vist i eksemplet. Der er et plus for hvert tal-par.

The puzzle consists of ten numbers in colored circles: 2 (red), 0 (green), 3 (yellow), 8 (light blue), 10 (purple), 4 (pink), 1 (orange), 5 (blue), 7 (teal), 9 (yellow), 5 (orange), and 6 (blue). There are plus signs between 2 and 8, 3 and 10, 1 and 5, 5 and 7, and 5 and 6. A dashed red line connects the number 2 and 8, with a plus sign in between, illustrating a correct pair.

Sandt eller falsk?

Kan du 10-tabellen? 10, 20, 30, 40, 50, 60, 70, 80, 90, 100. At tælle 10'ere er lidt ligesom at tælle 1'ere - der skal bare et 0 bagefter.

$3 + 7$



$6 + 3$



$8 + 1$



$1 + 9$



$5 + 5$



$2 + 2$



$4 + 6$



$10 + 1$



$2 + 7$



$8 + 1$



$8 + 2$



$5 + 3$



Lav selv 10'er venner

Hvor mange forskellige tal-par kan du finde på, som giver 10 tilsammen? Der er 6 forskellige muligheder.

	+		=	10
--	---	--	---	----

	+		=	10
--	---	--	---	----

	+		=	10
--	---	--	---	----

	+		=	10
--	---	--	---	----

	+		=	10
--	---	--	---	----

	+		=	10
--	---	--	---	----

10'er venner spillet

Slå med en terning. Før du rykker din brik, skal du svare rigtig på hvilken 10'er ven, der mangler. Når du har svaret rigtig, må du rykke din brik. Svarer du forkert, skal du blive stående. Første i mål vinder.

