

Regn med penge

Niveau 1
2. - 3. klasse



Navn: _____

Regn med penge



I dette hæfte skal du lære at regne med penge. Det er vigtigt at kunne, når du skal købe ting. Plus pengene sammen.



5 kr.



50 kr.



100 kr.



=



=



=



=

Regn med penge



I Danmark bruger vi faktisk sjældent fysiske penge, men betaler med Mobilepay og dankort.

Tegn pengene, så beløbet passer.



5 kr.



50 kr.



100 kr.

=

125

=

95

=

165

=

410

Tæl og tegn



Vi har møde mønter og sedler i Danmark, som repræsenterer en værdi. Mønterne er mindst værd og sedlerne er mest værd.

Tegn på 4 forskellige måder, så der er 260kr i hver kasse.



5 kr.



50 kr.



100 kr.

= 260kr

= 260kr

= 260kr

= 260kr

Hjælp grisen



Gennem tiden er der blevet brugt både guld, kobber, skind, smykker, sølv og dyr til at handle med.

Sæt streger fra penge til grisen. Der skal være 123kr ved grisen.

5 kr. 50 kr. 20 kr.

20 kr.

4 kr.

1 kr.

15 kr.



1 kr.

10 kr.

10 kr.

2 kr.

3 kr.

30 kr.

20 kr.

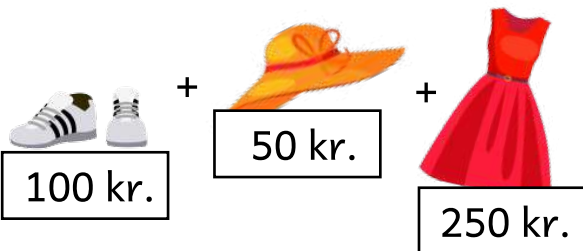
5 kr.



Hvad koster tøjet?



Tilbage i tiden handlede man ofte for at købe det mad, man ikke selv kunne producere. Eller købe tøj for at holde varmen. Udregn den samlede pris for delene.



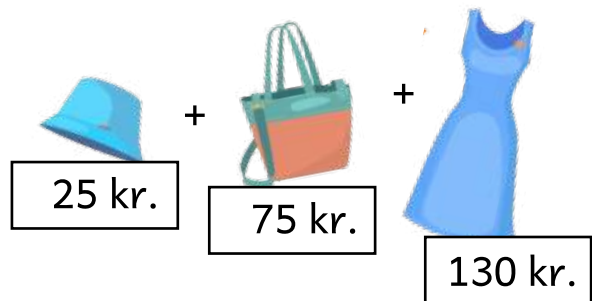
=



=



=



=

Hvad koster hvad?

I dag bliver der brugt rigtige mange penge på tøj, mode og at se "rigtig" ud.

Læg tallene sammen og sæt streg til det rigtige stykke tøj.

50 kr.	20kr.
7 kr.	40kr.
3 kr.	10 kr.



170 kr.

5 kr.	10 kr.
30 kr.	
20 kr.	5 kr.
5 kr.	



75 kr.

1 kr.	2 kr.
5 kr.	
40 kr.	50 kr.
30 kr.	
2 kr.	40 kr.



130 kr.

Hjælp grisen



Selvom det er fristende at bruge alle dine penge på tøj, computerspil og fede sko, så kan det være en god idé at spare op.

Sæt streger fra penge til grisen. Der skal være 86kr ved grisen.

5 kr.

50 kr.

20 kr.

20 kr.

4 kr.

1 kr.



15 kr.

10 kr.

1 kr.

2 kr.

10 kr.

30 kr.

3 kr.

5 kr.

20 kr.

Penge retur



Det er en god vane altid at tjekke sin bon, når du køber noget. Måske du har betalt for meget i forhold til, hvad skiltet viste?

Her betaler du med 100 kr for varen. Hvor mange penge får du tilbage?

100 kr. -



30 kr.

=


100 kr. -



45 kr.

=

100 kr. -



80 kr.

=


100 kr. -



25 kr.

=

100 kr. -



10 kr.

=

100 kr. -



65 kr.

=

Køb ind

Overvej altid dine køb og undgå impulskøb. Det er altid godt at tænke "Har jeg virkelig brug for dette?".

I opgaven har du 100 kr. Hvad vil du købe for pengene? Du skal købe mindst 3 ting. Skriv regnestykket.

 Overraskelse 50 kr.	 Diamant 75 kr.	 Tennisbold 25 kr.	 Monster 40 kr.
 Lineal 10 kr.	 Pandekager 20 kr.	 Skibriller 60 kr.	 Solhat 35 kr.

Hvad køber du?

Hvordan ser regnestykket ud? Hvor penge har du tilbage?

100 -

Køb dobbelt

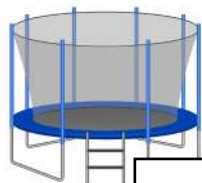


Nogle varer kan du få rabat på, hvis du køber to af dem. Det er oftest de lidt dyrere varer som fx. cykler. Du skal købe to af hver ting. Hvad koster det?




50 kr.

$$\times 2 =$$



450 kr.

$$\times 2 =$$



60 kr.

$$\times 2 =$$



325 kr.

$$\times 2 =$$

