

Matematikhæfte 1. klasse



Navn: _____

Klasse: _____












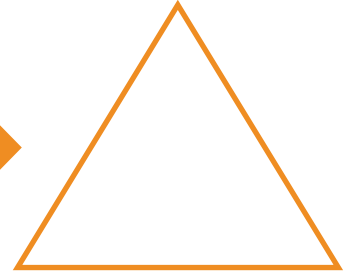


Tæl



Halloween er en tradition, der handler om spøgelser, monstre og uhygge. Da gælder det om at skræmme hinanden for sjov.

Tæl hvor mange der er, og skriv det i trekanten.





Sæt i rækkefølge



Halloween er en stor tradition i Amerika, men det er efterhånden også blevet almindeligt at fejre halloween i Danmark.

Sæt tallene i figurerne i rækkefølge. Fra mindst til størst.





Plus



Vi fejrer halloween i slutningen af oktober. Det blev set som afslutningen af sommeren og starten på den mørke tid.



Regn plusstykkerne ud.




+




=



+




=




+




=



+



=





Find svaret



I gamle dage var man meget overtroisk. Man troede, at de døde stod op af deres grav den sidste dag i oktober.

Find svaret på disse regnestykker, og træk en streg hen til det rigtige svar.

$6 + 2 =$



$16 - 10 =$

$13 + 3 =$



$11 - 3 =$

$4 + 12 =$

$18 - 2 =$

$3 + 3 =$



$14 - 6 =$

$17 - 11 =$

Find den samme sum



Når det er halloween, er der mange, der klæder sig ud som for eksempel spøgelse, vampyr, zombie, mumie eller andre monstre.

Sæt streg mellem regnestykket og billedet med samme sum.

$3 + 4$



$20 - 5$

$15 - 4$



$6 + 5$

$8 + 7$



$7 - 4$

$4 + 4$



$2 + 5$

$9 - 6$



$10 - 2$



Find vej til spøgelseshuset

Mange går udklædt rundt fra dør til dør og råber: "Slik eller ballade?!" Så gælder det om at se uhyggelig ud.

Hjælp spøgelse ned til spøgelseshuset. Du bestemmer, hvilken vej spøgelse skal tage. Alle tallene på vejen skal plusses sammen til sidst.



4	1	3	6	5	2
8	0	7	2	1	9
4	2	7	1	6	3
7	8	3	4	7	1
8	3	2	0	8	2
2	4	7	6	4	1
9	1	2	3	5	



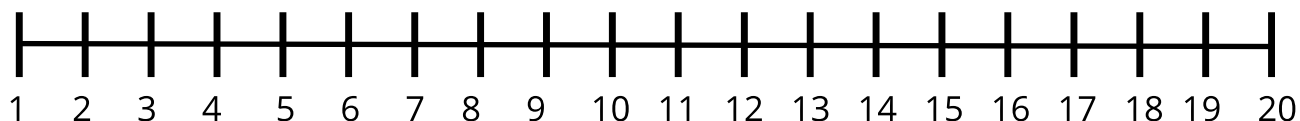
=



Løs regnestykkerne

Der er også tradition for at pynte op både inde og ude med "uhyggelige" ting, som spindelvæv, spøgelser, monstre, blodige fingre eller lignende.

Find svaret på disse minus regnestykker. Brug tallinjen som hjælp.



$$20 - 4 = \underline{16}$$

$$14 - 11 = \underline{\quad}$$

$$8 - 3 = \underline{\quad}$$

$$4 - 3 = \underline{\quad}$$

$$19 - 8 = \underline{\quad}$$

$$17 - 4 = \underline{\quad}$$

$$12 - 7 = \underline{\quad}$$

$$16 - 5 = \underline{\quad}$$

$$13 - 12 = \underline{\quad}$$

$$9 - 2 = \underline{\quad}$$

$$18 - 6 = \underline{\quad}$$

$$20 - 13 = \underline{\quad}$$

$$8 - 4 = \underline{\quad}$$

$$7 - 3 = \underline{\quad}$$







Minus og plus





Græskar bruges meget til halloween. Man kan udhule græskarrene og skære uhyggelige ansigter ud. Så kan de bruges som lygter.


Minus og plus det tal, som står i græskarret med tallet, der står i feltet nedenunder græskarret.


-  +
8 12 16


-  +
10


-  +
11

-  +
9

-  +
17

-  +
15

-  +
23

-  +
8



Skriv nabotallet



Græskarlygter lyser op alle steder til halloween. Tag din bedste ven, din mor eller far i hånden og gå en tur og se de flotte udsmykninger og lygter.

Skriv tallet før og efter tallet i midten.



Tallet før

Tallet efter



Tallet før

Tallet efter



Tallet før

Tallet efter



Tallet før

Tallet efter



Tallet før

Tallet efter



Tallet før

Tallet efter



Tallet før

Tallet efter



Tallet før

Tallet efter



Tallet før

Tallet efter



Tallet før

Tallet efter






Farvelæg



Hjemme kan man hygge sig med at høre en uhyggelig halloween historie, mens man spiser halloween lækkerier. Prøv for eksempel at bage en græskarkage, akskårne heksefingre eller mumie pølsehorn.

Rean og farv billederne.



$2 + 5$

$6 - 4$

$3 + 2$

$9 - 3$

$3 + 1$

$8 - 5$

$5 - 4$