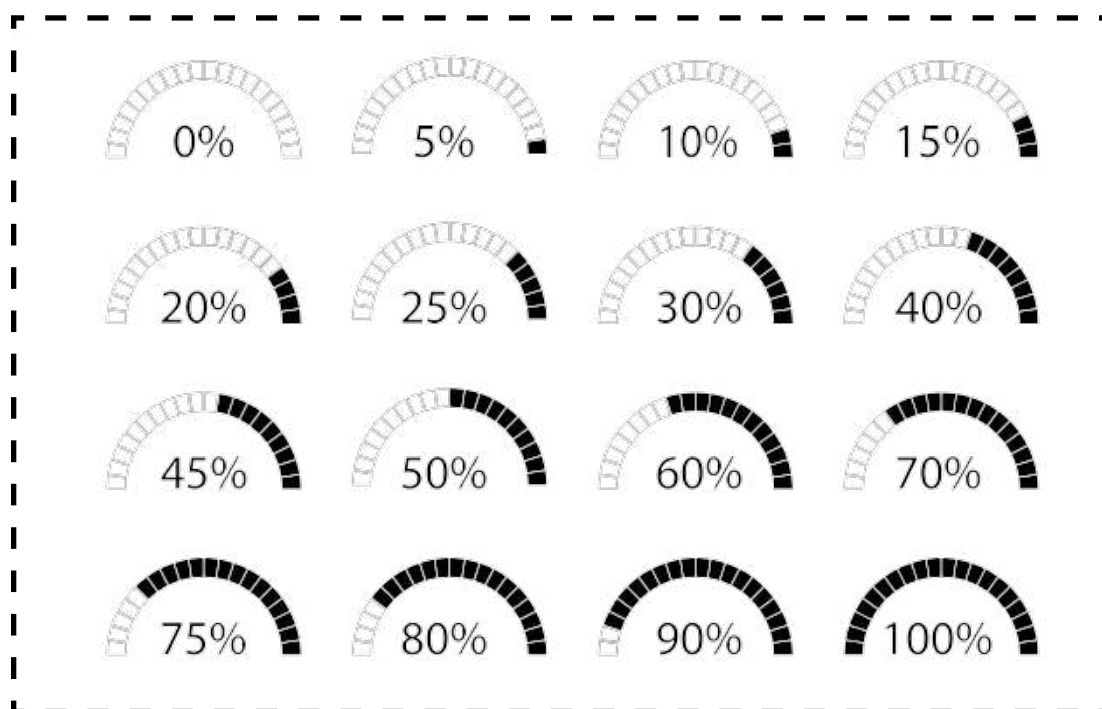


Hæfte om procent

Niveau 1



Navn: _____

Klasse: _____

Procent

Procent betyder per hundrede. Altså 100-dele og det skrives med tegnet %.

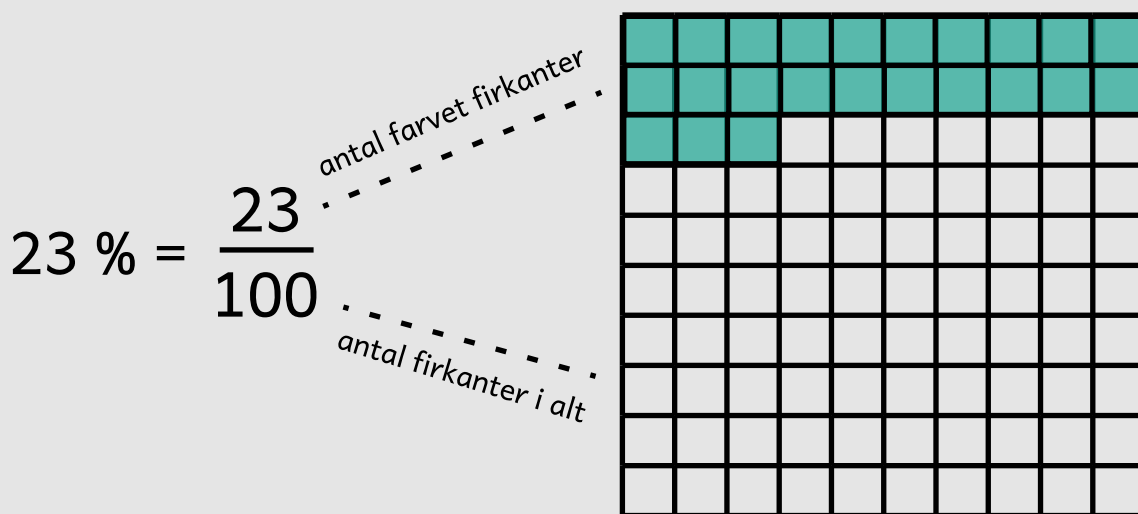
1 % betyder, at du har 1 ud af 100-dele. Procent kan også skrives som brøker og vil se sådan her ud: $\frac{1}{100}$

Når vi regner med procent, skal vi finde ud af hvor stor en del noget er af 100-dele.

F.eks.

$$23 \% = \frac{23}{100}$$


Hvis 23 % skal farves, vil det se sådan her ud:




Procent

Farv den rigtige procent del i firkanterne.


14 %




40 %




66 %



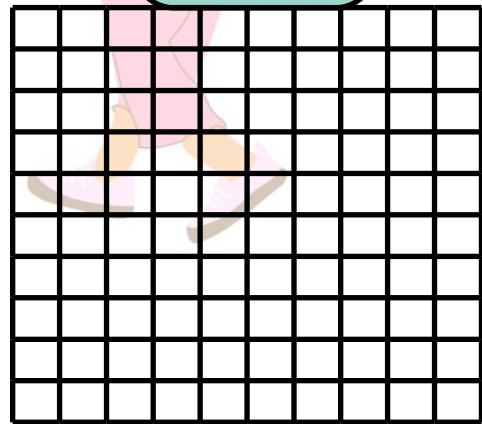
72 %



81 %



29 %



Procent

Forbind procenten til den rigtige brøk.

25 %

$\frac{11}{100}$

58 %

$\frac{4}{5}$

50 %

$\frac{1}{4}$

80 %

$\frac{58}{100}$

11 %

$\frac{1}{2}$


Procent

Skriv brøken og farv den rigtige procent del.

70 % \longrightarrow $\frac{70}{100}$ \longrightarrow $\frac{7}{10}$



35 % \longrightarrow



95 % \longrightarrow




45 % \longrightarrow





Procent

Hvor stor en procentdel af figuren er farvet?



75 %



Procent

Skriv brøken og farv procentdelen.

procent

20%

brøk

$$\frac{20}{100}$$

procent

90%

brøk

procent

40%

brøk

procent


70%

brøk

Procent

Hvor stor en del udgør den bestemte frugt af kurven?

Hvor stor en procentdel udgør æblerne?



_____ %

Hvor stor en procentdel udgør fersknerne?



_____ %

Hvor stor en procentdel udgør appelsinerne?



_____ %