

Læs, forstå og regn matematik 1

Mellemtrin



Navn _____

Klasse _____

Læseforståelse

Sæt streg mellem kasserne og det rigtige svar.
Ikke alle svar skal bruges.

Emma bliver 13 om 5 år.
Hvor gammel er hun nu?

1970

15

Emmas lillebror spiller 2,5 timer
på sin playstation om dagen. Hvor
meget spiller han på 3 dage?

80

Emma har bagt en kage, som er skåret
i 20 stykker. Hendes far spiser 7 stykker.
Hvor mange stykker er der tilbage?

13

Emmas mor kører 20 km om dagen
4 gange i ugen. Hvor mange kilometer
kører hun i alt?

6,5

1980

Emmas mormor og morfar har i
år 2020 været gift i 40 år. Hvilket år
blev de gift?

21

Emmas far drikker 1,5 liter
mælk om dagen. Hvor meget
drikker han på 3 dage?

8

Emmas hund, Molly, får 3 godbider om
dagen. Hvor mange får hun på en uge?









7,5

4,5

Læseforståelse


Rigtige regnestykker = sæt et ✓ i cirklen

Forkerte regnestykker = sæt et ✗ i cirklen

<p>Tre æbler + fire æbler = syv æbler</p>  	<p>Ni oste - fire oste = seks oste</p>  	<p>Ti tænder - seks tænder = fire tænder</p>  
<p>Tre bananer * tre bananer = ni bananer</p>  	<p>Ti hvaler : to hvaler = fem hvaler</p>  	<p>Syv pizzaer + tolv pizzaer = tyve pizzaer</p>  
<p>Femten colaer : fem colaer = fire colaer</p>  	<p>Seks bier * tre bier = seksten bier</p>  	<p>Sytten blomster - ni blomster = otte blomster</p>  
<p>Fem kager * fire kager = tyve kager</p>  	<p>Tretten ugler + seks ugler = atten ugler</p>  	<p>Tyve lastbiler : to lastbiler = fem lastbiler</p>  
<p>Fyrre bananer - ni bananer = nitten bananer</p>  	<p>Otte skibe + fem skibe = tolv skibe</p>  	<p>Tre balloner · ti balloner = tredive balloner</p>  

Faglig læsning

Sæt ring om det rigtige svar, så teksten passer.

Sofies livret er fisk. Til aftensmad spiser hun 3 fisk. Sofies far spiser _____  . Tilsammen spiser de 9 fisk.

8

6

7

Noah er ude at se fodbold. Han køber en  til 8kr. Han køber også en  til _____ kr. I alt kommer han af med 15kr.

5

9


7

Thor spiser 5  . Thors far spiser 3 gange så mange jordbær som Thor. Hvor mange  spiser Thors far?

25

20



15

Lykke laver muffins til sin klasse. Hun bager 35 i alt. Der bliver spist _____ . Hun har 12  med hjem igen.

23

18


21

Til en fødselsdag er 12 drenge fra klassen samlet. Hver dreng spiser _____  . Der bliver i alt spist 36  .

4

3

5

Bo træner  2 gange om ugen. Det gør han i 26 uger om året. Hvor mange gange træner han  på et år?

50

56

52

Faglig læsning

Skriv en regnehistorie, så det passer til billedet.
Der er givet et eksempel.

Bo og Kasper er i Zoo. Bo så 3 elefanter.

Kasper så 2 elefanter. Hvor mange
elefanter, så de i alt ?

