

# Læs, forstå og regn matematik 1

Indskoling

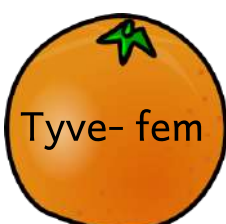
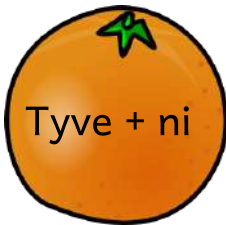






Navn \_\_\_\_\_

Klasse \_\_\_\_\_

# Plus

Sæt streg mellem de appelsiner, som passer sammen.



# Begrebsforståelse

Forbind ordene med de rigtige steder på huset.

Ret vinkel

Hjørne

Lodret linje

En længde

Cirkel



Firkant

En højde

Vandret linje

Rektangel

En kvart  $1/4$

# Faglig læsning

Du har fået 25 kroner med i supermarkedet.

Kan du købe alt på række 1 ?

Ja

Nej

Kan du købe alt på række 2 ?

Ja

Nej

Kan du købe alt på både række 1 og række 2 ?

Ja


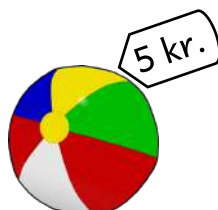
Nej

Hvor mange is kan du købe for 25 kroner?



\_\_\_\_\_

Hvor mange badebolde kan du købe for 25 kroner?

\_\_\_\_\_



Række 1





Række 2

# Plus og minus

Sæt ring om det rigtige svar, så regnestykket passer.

Ole er ude og handle.

Han køber 6 store 

og 6 modne 

Han køber \_\_\_\_\_

stykker frugt i alt.

10

12

14

Cecilie er ude og se

gymnastik. Hun køber en



til 10 kr. og en



til 6 kr. Hun skal af med


\_\_\_\_\_ kr. i alt

15

13

16

Kasper spiller fodbold.

Kasper har købt 4 

og Jonas har købt 7 nye



. Der er i alt \_\_\_\_\_


nye fodbolde.

11

10

9

Ole og Ib elsker at fiske.

Ole fanger 3 . Ib

er så heldig, at han

fanger 5 . Hvor

mange fisk fanger de i

alt?

8

10

6

Karls livret er hotdogs.

Han kan spise 5 

Karls far kan spise 8.


Tilsammen kan de spise

\_\_\_\_\_ .

8

13

11

Oline har bagt  til

klassen. Der er bagt 30 i

alt. I klassen bliver der

spist \_\_\_\_\_. Hun har

10  med hjem igen.

10

20

30