

"Større end" eller "mindre end"



Mit navn: _____

Klasse: _____


Større end og mindre end



< > disse tegn bruger vi til at finde ud af hvilken værdi, der er størst, og hvilken der er mindst.

Mindst < Størst Størst > Mindst

Lige stort = Lige stort






Blomsten er
mindre end
træet

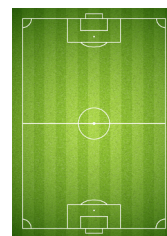
Træet er
større end
blomsten

Sæt < eller > ind i kasserne



Kanin

Elefant



Seng

Fodboldbane



Taske

Blyant

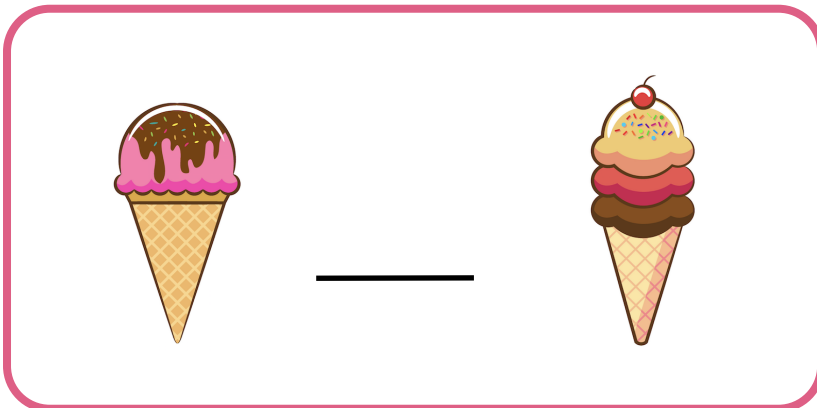
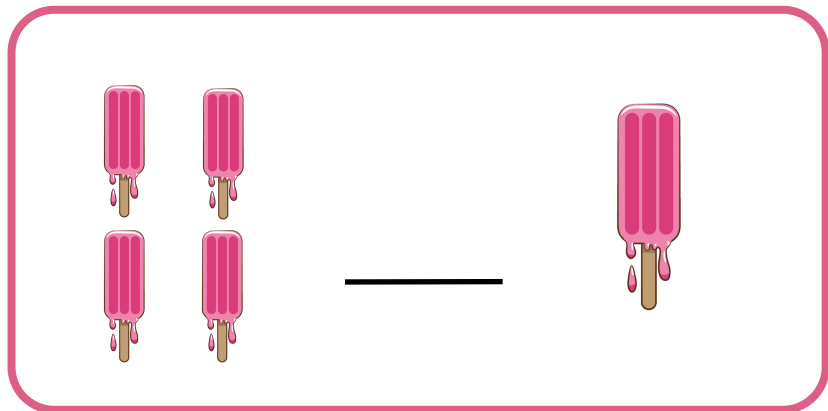



Telefon


Computer

Korrekt tegn



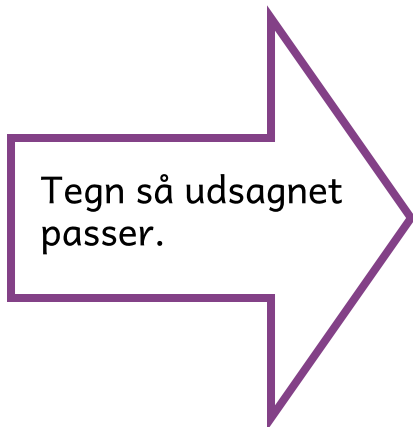
Sæt <, > eller = ind



Tegn



Tegn så udsagnet passer.



Tegn så udsagnet passer.

Sæt <, > eller = ind i kasserne



2 5

6 5

3 3

7 4

5 2

6 9

4 5

8 8

2 1

4 2

1 0

3 5

Skriv tallet

Sæt et tal ind på den anden side af <, > eller = tegnet, så udsagnet passer.

$4 < \underline{\quad}$

$8 > \underline{\quad}$

$\underline{\quad} > 5$

$\underline{\quad} < 4$

$\underline{\quad} = 2$

$1 < \underline{\quad}$

$3 < \underline{\quad}$

$\underline{\quad} = 9$

$7 > \underline{\quad}$

$5 < \underline{\quad}$

$\underline{\quad} < 3$

$4 > \underline{\quad}$

