



Statistik

Niveau 1




Statistik handler om at indsamle data og tegne dem ind i diagrammer. Opgaverne handler om, at kunne tælle og forstå det talte og kunne tegne disse oplysninger ind i forskellige diagrammer.

Navn: _____

Klasse: _____

Tæl blomsterne



Tæl hvor mange blomster, der er i hver farve, og sæt kryds i den rigtige søjle.

i alt:


i alt:

i alt:

i alt:

i alt:


Tæl hjerterne




Tæl hvor mange hjerter, der er i hver farve, og sæt kryds i den rigtige søjle.

i alt:	<input type="checkbox"/>	i alt:	<input type="checkbox"/>	i alt:	<input type="checkbox"/>	i alt:	<input type="checkbox"/>	i alt:	<input type="checkbox"/>
	<input type="checkbox"/>		<input type="checkbox"/>		<input type="checkbox"/>		<input type="checkbox"/>		<input type="checkbox"/>
	<input type="checkbox"/>		<input type="checkbox"/>		<input type="checkbox"/>		<input type="checkbox"/>		<input type="checkbox"/>
	<input type="checkbox"/>		<input type="checkbox"/>		<input type="checkbox"/>		<input type="checkbox"/>		<input type="checkbox"/>
	<input type="checkbox"/>		<input type="checkbox"/>		<input type="checkbox"/>		<input type="checkbox"/>		<input type="checkbox"/>
	<input type="checkbox"/>		<input type="checkbox"/>		<input type="checkbox"/>		<input type="checkbox"/>		<input type="checkbox"/>
	<input type="checkbox"/>		<input type="checkbox"/>		<input type="checkbox"/>		<input type="checkbox"/>		<input type="checkbox"/>
	<input type="checkbox"/>		<input type="checkbox"/>		<input type="checkbox"/>		<input type="checkbox"/>		<input type="checkbox"/>
	<input type="checkbox"/>		<input type="checkbox"/>		<input type="checkbox"/>		<input type="checkbox"/>		<input type="checkbox"/>
	<input type="checkbox"/>		<input type="checkbox"/>		<input type="checkbox"/>		<input type="checkbox"/>		<input type="checkbox"/>

Tæl blomsterne



Tæl hvor mange biler, der er i hver farve, og indsæt i pindediagrammet.



Aflæs pindediagram

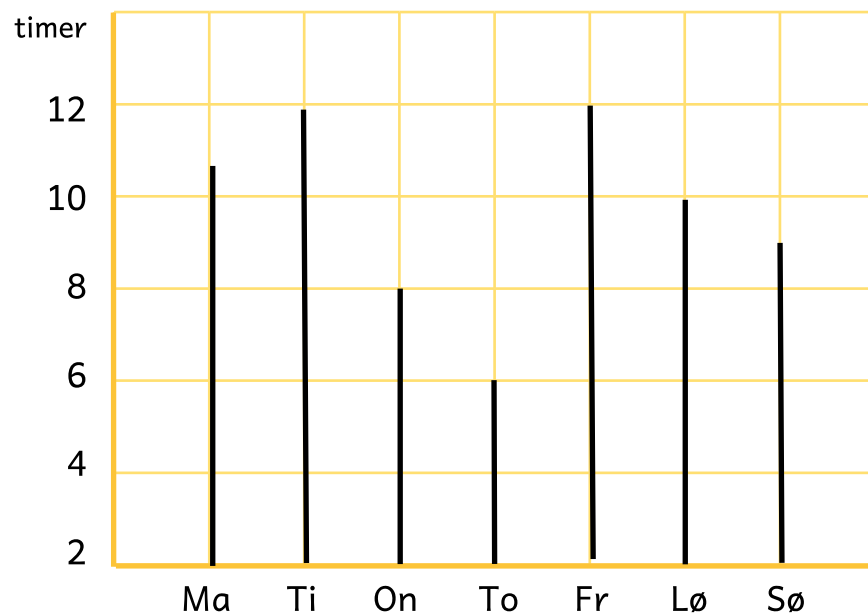
Se på pindediagrammet nederst. Det viser hvor mange timer, solen skinner på forskellige dage i en bestemt uge. Du kan lave pindediagrammet om til en tabel ved at aflæse pindediagrammet og skrive tallet i tabellen.



Udfyld tabellen

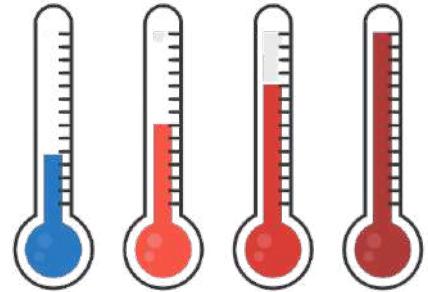
Dag	Solskin i timer
Mandag	
Tirsdag	
Onsdag	
Torsdag	
Fredag	
Lørdag	
Søndag	
i alt	

Aflæs pindediagrammet



Aflæs pindediagram

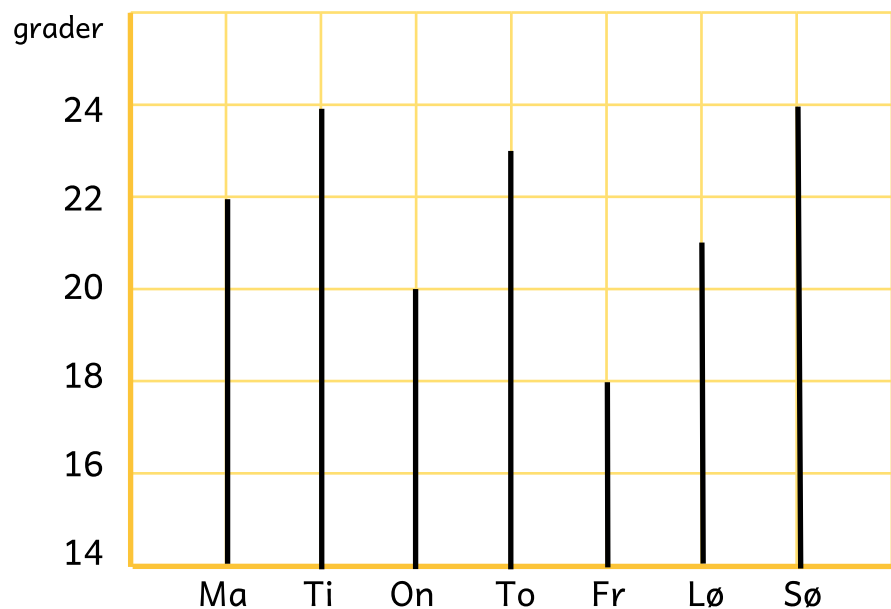
Se på pindediagrammet nederst. Det viser hvor mange grader - altså temperaturen - på forskellige dage i en bestemt uge. Du kan lave pindediagrammet om til en tabel ved at aflæse pindediagrammet og skrive tallet i tabellen.



Aflæs tabellen

Dag	Grader
Mandag	
Tirsdag	
Onsdag	
Torsdag	
Fredag	
Lørdag	
Søndag	
i alt	

Aflæs pindediagrammet



Indsæt i pindediagram

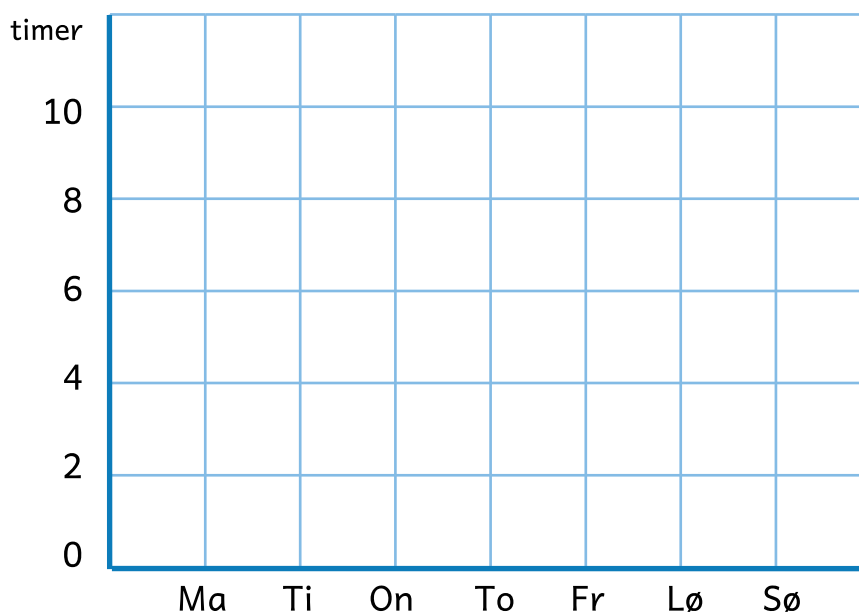
Se på tabellen nederst. Den viser hvor mange timer, solen skinner på forskellige dage i en bestemt uge. Du kan lave tabellen om til et pindediagram ved at aflæse tabellen og tegne timerne ind i pindediagrammet.



Aflæs tabellen

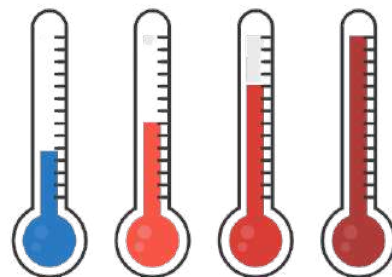
Dag	Solskin i timer
Mandag	7
Tirsdag	4
Onsdag	6
Torsdag	7
Fredag	8
Lørdag	10
Søndag	5
i alt	

Udfyld pindediagrammet



Indsæt i pindediagram

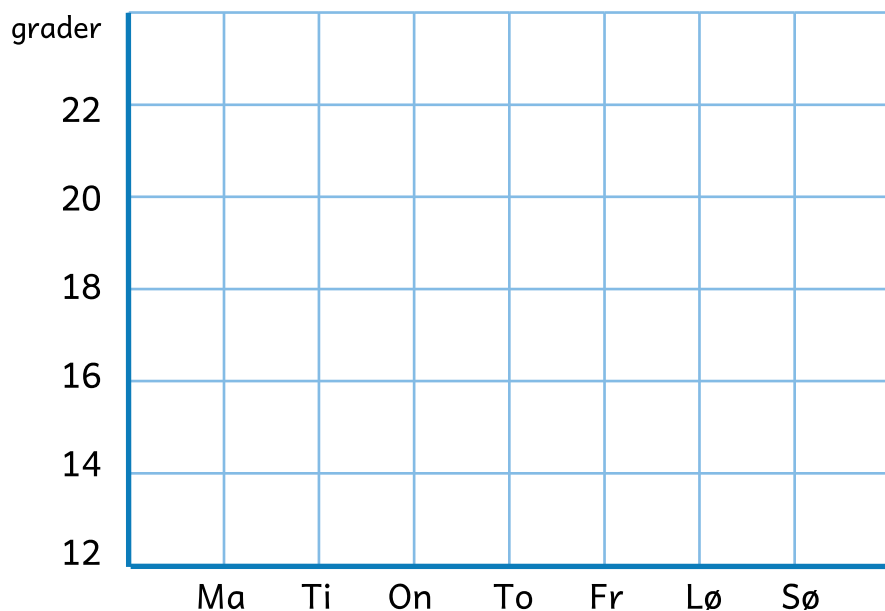
Se på tabellen nederst. Den viser hvor mange grader - altså temperaturen - på forskellige dage i en bestemt uge. Du kan lave tabellen om til et pindediagram ved at aflæse tabellen og tegne timerne ind i pindediagrammet.



Aflæs tabellen

Dag	Grader
Mandag	20
Tirsdag	16
Onsdag	22
Torsdag	18
Fredag	14
Lørdag	14
Søndag	13
i alt	

Udfyld pindediagrammet





Find informationerne

Læs informationerne og skriv og tegn dem ind i tabellen og pindediagrammet.

Jesper spiser 5 stykker chokolade.

Johan spiser 2 stykker chokolade.


Mie spiser 8 stykker chokolade.

Luna spiser 5 stykker chokolade.

Laura spiser 7 stykker chokolade.



Personer	Antal
Jesper	
Luna	



©Jesper

Luna



Undersøg selv




Undersøg, hvor mange **puder**, **vinduer**, **døre**, **borde** og **stole**, der er hjemme ved dig, eller i Jeres klasse.

Udfyld tabellen og tegn i pindediagrammet.



Ting	Antal
Stole	



Stole